

01. Observe as proposições abaixo e assinale a alternativa que corresponde à(s) categoria(s) geográfica(s) definida(s) pelos respectivos conceitos.

- I. "Natureza modificada pelo homem através do trabalho".
- II. "Resultado da ação dos homens sobre o próprio espaço intermediados pelos objetos, naturais e artificiais".
- III. "Produto histórico e social das relações que se estabelecem entre a sociedade e o meio circundante".

Assinale a alternativa correta:

- a) As proposições I, II e III correspondem respectivamente aos conceitos de **paisagem, território e espaço**.
- b) As proposições I, II e III correspondem a diferentes formas conceituais de **espaço geográfico**.
- c) A proposição I conceitua **espaço natural**, enquanto que as proposições II e III conceituam **espaço geográfico**.
- d) As proposições I e II se referem à **primeira natureza** enquanto que a proposição III nos remete à **segunda natureza**.
- e) Todas as proposições definem **espaço geográfico**, porém apenas a proposição I está correta.

02. "Não será surpresa se já no primeiro dia da era pós-Saddam o Iraque se transformar na Iugoslávia do Oriente Médio".

Veja, 26 de fevereiro de 2003.

A analogia entre os dois países deve-se ao fato de que:

- a) Assim como a antiga Iugoslávia, o Iraque é formado por etnias rivais, cuja unidade se manteve através da força.
- b) Ambos os países foram governados por árabes xiitas.
- c) Houve nos dois casos rivalidades entre xiitas e sunitas.
- d) Assim como Tito, Saddam Hussein manteve a unidade do país com a política da auto-gestão e do revezamento das etnias na presidência.
- e) O Iraque teve o apoio americano ao declarar guerra ao Irã, tal como ocorreu com a Iugoslávia, que ganhou respeitabilidade aos olhos dos Estados Unidos ao romper com a União Soviética.

03.



De acordo com a leitura da charge, utilizada como propaganda nos anos de 1980 pelo aiatolá Khomeini, pode-se afirmar que:

- a) As duas superpotências tentavam esmagar o governo iraquiano por usar armas químicas contra curdos e iranianos.
- b) A União Soviética era vista como o mal e os Estados Unidos como o bem, pelos iraquianos.
- c) Saddam Hussein havia causado estremecimento nas relações diplomáticas entre as duas potências mundiais ao declarar guerra ao Irã.
- d) Saddam Hussein era admirado em todo o Oriente Médio por ser o único líder árabe capaz de desafiar as duas superpotências.
- e) Saddam Hussein era visto na época pelo Irã como aliado das superpotências.

04. No bloco 1 os trechos retirados do livro "Sociedade e Espaço" de J.W. Vesentini mostram idéias formuladas no pós-guerra fria e anterior à guerra do Iraque em 2003.

No bloco 2, fatos recentes fazem com que tais idéias sejam questionadas e que a Nova Ordem Mundial já seja repensada. Associe no bloco 2 os fatos que **contradizem** as afirmativas do bloco 1.

BLOCO 1

- (1) "A competição atual é econômica e não mais militar".
- (2) "Podemos notar a presença mais ativa da ONU nos problemas mundiais em vários momentos recentes: a aprovação de envio das tropas aliadas na Guerra do Golfo de 1991... (a ONU) deverá sofrer algumas reformulações nos anos 90 e desempenhar um papel mais ativo no século XXI".
- (3) "... cada superpotência defendia um dos lados da disputa (na ONU). Mas com o final da guerra fria esses problemas já não existem mais".
- (4) "A ordem bipolar era tida como (...) uma realidade na qual predominava a oposição entre duas alternativas (o bem contra o mal...). A nova ordem (...) é (...) uma realidade com várias alternativas e opções".

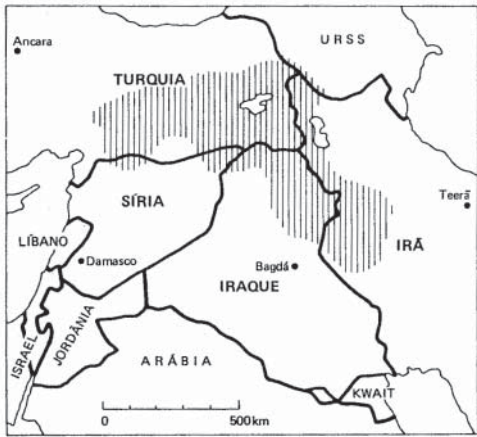
BLOCO 2

- () O desdém dos Estados Unidos para com a decisão da ONU em não atacar o Iraque deixou esta organização desmoralizada e enfraquecida perante a comunidade mundial que questiona seu papel.
- () O presidente Bush, após o "11 de setembro", retoma o discurso maniqueísta, ao se eleger o bem e definir um eixo do mal. Por outro lado, o modelo neoliberal é imposto como única alternativa possível para todos os países que pretendam se inserir na economia globalizada.
- () Potências econômicas como a França, Alemanha e Rússia se opuseram à invasão do Iraque, não por questões humanitárias, mas por defenderem interesses particulares contrários aos interesses dos Estados Unidos, cujo palco de disputa continuou sendo a ONU. O que prova que os antagonismos (embora não mais capitalismo X socialismo) não desapareceram com o mundo globalizado.
- () Os ataques americanos ao Afeganistão e ao Iraque mostram que no século XXI o confronto entre países continua a se dá pelas vias bélicas e não apenas no campo da economia, como era previsto.

A seqüência correta é:

- a) 2 1 4 3
- b) 2 3 1 4
- c) 2 4 3 1
- d) 3 4 1 2
- e) 4 1 3 2

05. Ao se observar o mapa cuja área hachurada deveria corresponder ao Estado do Curdistão, pode-se afirmar que:



- I. O apoio dos curdos para a invasão americana ao Iraque explica-se pelo fato de representar uma chance desse povo criar seu Estado, o Curdistão, ao norte do Iraque.
- II. A possibilidade de criação de um Estado independente pelos curdos iranianos tranqüilizou a Turquia, a Síria e o Irã, que viram resolvidos os seus problemas de territorialidade com essa etnia.
- III. Espalhados por vários países, os curdos, a exemplo dos palestinos lutam por sua territorialidade.
- IV. A disseminação do povo curdo por vários países é um exemplo claro da artificialidade das fronteiras dos Estados-Nações modernos.

Estão corretas as proposições:

- a) II e III
- b) I, II, III e IV
- c) I e II
- d) I, III e IV
- e) II e IV

06. Assinale com **V** ou com **F**, caso as proposições sejam respectivamente verdadeiras ou falsas, em relação ao papel do Estado-Nação no processo de globalização.

- () Diante dos avanços tecnológicos e das características do mercado globalizado, os Estados Nacionais perdem todo e qualquer papel, devendo desaparecer em breve, por apresentarem-se como entraves a expansão das grandes empresas.
- () A globalização não prescinde dos Estados Nacionais que têm importante papel na desregulamentação dos mercados nacionais, primordial no avanço do atual processo de internacionalização capitalista.
- () A tendência atual é o completo desaparecimento dos Estados-nacionais, que serão absorvidos por organizações supra-nacionais, como já ocorre com a união européia.
- () Em plena globalização, os sentimentos nacionalistas não desapareceram, mas emergiram com muita força e novos Estados poderão até surgir, ao contrário da profetizada morte do Estado-Nação (por não atender mais aos objetivos do mundo globalizado).

A seqüência correta das assertivas é:

- a) VFFF
- b) VFVF
- c) FFFF
- d) FVFV
- e) VVVV

07. “Os sionistas de então (antes da criação do Estado de Israel) acreditavam que o novo país seria uma sociedade solidária, com matizes socialistas que se configuravam nos Kibutzim, colônias de produção coletiva e cooperação entre palestinos e os judeus”

Super Interessante, maio de 2003.

Comparando o fragmento do texto com a realidade presente na Palestina, assinale com **V** ou com **F**, conforme as assertivas sejam respectivamente verdadeiras ou falsas.

- () Foram as idéias de cooperação e solidariedade presentes na criação do Estado Judeu que contribuíram para que Israel adotasse o socialismo como modelo econômico ainda vigente no país.
- () O sonho de um país onde judeus e palestinos vivessem como irmãos só foi desfeito pela intransigência palestina, que se utilizaram de práticas terroristas para impedir tal convívio, a partir do ataque surpresa contra Israel que ficou conhecido como guerra dos seis dias.
- () A simpatia que o movimento sionista conquistou no Ocidente, inclusive entre as esquerdas, desgastou-se com a política anti-árabe, expansionista e repressora praticada pelo Estado de Israel contra os palestinos.
- () O Kibutz, que representou o sonho de uma sociedade solidária e justa, terminou por conferir um elemento a mais na discórdia entre judeus e palestinos, por representar a pretensão de posse definitiva dos territórios invadidos por Israel.

A seqüência correta é:

- a) FFVV
- b) VVVV
- c) FFFF
- d) VVFF
- e) FVFV

08. “... Bali, na Indonésia, uma população passa pelas ruas seguindo uma torre de bambu (...) enfeitada com flores e fitas. Pode parecer carnaval, mas é um cortejo (...) para o (...) ritual de cremação. O povo deixa o que está fazendo de lado e engrossa o séqüito”

Terra, junho de 2003.

O fragmento do texto confirma:

- I. Que em plena globalização o aspecto cultural não desapareceu e continua a ser um dos elementos mais importantes na compreensão de cada povo.
- II. Que todo o progresso alcançado pelo meio técnico-científico-informacional não foi capaz de eliminar atitudes arcaicas e supersticiosas presentes em culturas atrasadas por várias partes do mundo.
- III. Que a estranheza em relação a outras culturas deve-se ao fato de as observarmos tendo como parâmetro nossa própria cultura.
- IV. Que a cultura é algo estático e imutável, que não sofre a influência das modernizações provenientes de fora.

Estão corretas apenas as proposições

- a) II e IV.
- b) I e III.
- c) I e II.
- d) I, III e IV.
- e) I, II e IV.

09.

O cuscuz com acarajé
 Antônio Rangel Júnior

Imagine um gaúcho só no xote
 Um mineiro se acabando no baião
 Na aldeia nós vamos dá o mote
 Quando o índio ligar a televisão
 Mas pra isso meu forró tem que mudar
 Tem que ser bem modernizado
Arrumado, maquiado, enfeitado (coitadim)
Pra virar um bom produto e coisa e tal

Os versos abordam questões atuais tais como o fato de:

- I. Vivermos numa aldeia global onde todas as culturas são apreciadas e valorizadas indistintamente.
- II. Estarmos presenciando a emergência de um meio técnico-científico-informacional, no qual a difusão da informação se faz nos mais remotos lugares, mudando gostos e costumes e estimulando novos consumos.
- III. Que a cultura de massa, fruto da indústria cultural, está em constante busca de cooptar e integrar a cultura popular, transformando-a em mercadoria lucrativa.
- IV. Que mesmo sofrendo a invasão da cultura de massa as culturas populares (de raízes locais) ainda conseguem resistir a uniformização da cultura de massa que é indiferente às particularidades dos lugares.

Está(ão) correta(s)

- a) I, II e III.
- b) I, III e IV.
- c) II, III e IV.
- d) apenas I.
- e) apenas IV.

10.

“OS POBRES DE ALÁ”

“Entre os países muçulmanos, a Turquia, mais ocidentalizada exhibe os melhores índices”.

Veja, 17 de outubro de 2001.

“FOME NO SOCIALISMO”

“Ditador da Coréia do Norte se esbalda em luxo enquanto o povo morre de fome”.

Veja, 26 de fevereiro de 2003.

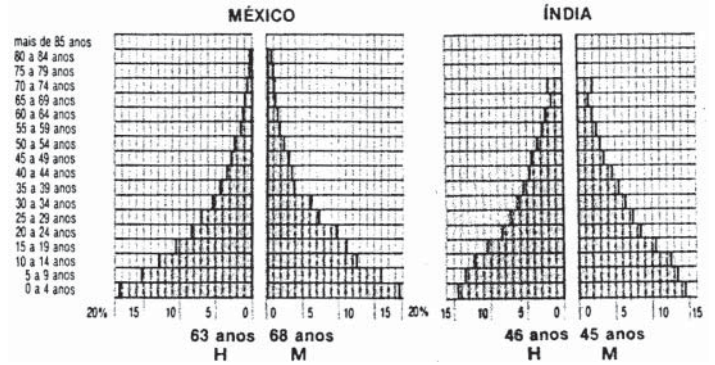
Ao se analisar os títulos das duas reportagens, pode-se afirmar que:

- I. Os países islâmicos e socialistas são maléficis à humanidade ao permitir a fome, a miséria, a violência, daí a denominação norte americana para esses países como “eixo do mal”.
- II. As duas reportagens são tendenciosas, enfatizando a religião muçumana e o modelo socialista como fomentadores da miséria, quando na verdade, a fome no mundo não é exclusividade de tais países.
- III. As “periferias” se encontram também no “centro”, o que significa dizer que a pobreza e as contradições estão presentes até nos países ricos, fato obscurecido nas reportagens.
- IV. Apenas os valores ocidentais e democráticos são capazes de melhorar os índices de desenvolvimento humano desses países entregues a barbárie, tal como é mostrado no exemplo da Turquia.

Estão corretas as proposições:

- a) I, III e IV.
- b) III e IV.
- c) II e IV.
- d) I e IV.
- e) II e III.

11.



Ao se comparar as duas pirâmides etárias, pode-se concluir que as mesmas demonstram que:

- a) A pirâmide etária da Índia apresenta um topo mais largo que a do México, indicando que a expectativa de vida é maior no primeiro país citado.
- b) A expectativa de vida é muito alta para o México que é um país em desenvolvimento e baixa para a população indiana, distribuída numa sociedade de castas.
- c) Na Índia a taxa de natalidade é muito baixa, devido ao controle do governo enquanto que no México é alta, pela presença de uma política que incentiva o crescimento demográfico.
- d) A base larga da pirâmide do México indica que a população desse país é composta por jovens, ao contrário da Índia que tem uma população predominantemente idosa.
- e) A taxa de natalidade é alta e a expectativa de vida é baixa para os dois países.

12. Assinale com **V** ou com **F** as proposições desde que sejam respectivamente verdadeiras ou falsas em relação à correta leitura da tabela.

As dez maiores cidades do mundo em 2015				
Cidade	País	População em milhões de habitantes		
		1950	2000	2015
Tóquio	Japão	6,9	26,4	20,15
Daca	Bangladesh	-	12,5	27,2
Bombaim	Índia	-	5,6	22,8
São Paulo	Brasil	-	18,0	21,2
Delhi	Índia	-	12,4	20,9
Cidade do México	México	-	18,1	20,4
Nova York	EUA	12,3	16,7	17,9
Jakarta	Indonésia	-	11,0	17,3
Los Angeles	EUA	-	13,2	14,5
Manila	Filipinas	-	10,0	12,6

- () Pode-se afirmar que em 50 anos houve uma verdadeira explosão urbana, pois das 10 cidades com população atual superior a 5 milhões, apenas duas se encontravam nessa posição.
- () Considerando-se que apenas 3 entre as 10 maiores metrópoles se encontram no primeiro mundo, é dedutível que a expansão urbana no mundo se fará acompanhada de graves problemas ambientais e sociais.
- () Observando-se que o maior crescimento urbano ocorrerá em países de industrialização recente, carentes de equipamento urbanos, é previsível que os problemas urbanos de tais países se agravarão penalizando grande parcela dessas populações pela falta de infra-estrutura.
- () O crescimento urbano dos países em desenvolvimento, certamente, terá impacto positivo, pois formará economias de aglomeração, com alto poder de consumo e necessidades de investimentos nos setores de habitação, transportes, saúde, educação e lazer, que atrairão capitais externos impulsionadores do progresso.

A seqüência das assertivas é:

- a) FFFF
- b) FFFV
- c) VVVV
- d) VFVF
- e) VVVV

13.

“As portas que já se fecharam para essas pessoas estão ainda mais cerradas desde que nas grandes cidades pontes começaram a ser protegidas por grades, marquises excluídas dos projetos arquitetônicos, obstáculos pontiagudos instalados nas fachadas, potentes holofotes colocados em prédios para impedir que qualquer ser humano pegue no sono, enfim tudo para evitar que moradores de ruas façam desses locais um teto, mesmo que provisoriamente”.

Isto É, 07 de fev. de 1999.

A reportagem mostra que a produção do espaço nas grandes cidades reflete:

- a) A impossibilidade de implantação de políticas habitacionais diante do rápido crescimento dos grandes centros urbanos.
- b) A tentativa de preservação dos espaços públicos e privados da ação dos marginais, por arquitetos e governantes.
- c) A preocupação da defesa civil em evitar que pessoas pobres se instalem em áreas de riscos.
- d) A estratégia de combate à violência, evitando aglomerações de mendigos e malfeitores em vias públicas, o que ameaça a integridade dos transeuntes.
- e) O aprofundamento das exclusões sociais e a tentativa de uma assepsia dos espaços “nobres” pela expulsão dos moradores de ruas.

14. São características da agricultura dos países pobres:

- I. Melhoria genética e maior produtividade, proporcionadas pela “revolução verde”, a partir dos anos de 1960, cujos objetivos alcançados foram: redução da fome, independência tecnológica e geração de divisas para tais países.
- II. Ter como principal destino da produção agrícola o mercado externo, geralmente controlado por grandes e poucas empresas multinacionais.
- III. Os pequenos proprietários rurais utilizarem como estratégia de sobrevivência o revezamento entre a produção camponesa e o trabalho assalariado sazonal nas empresas agrícolas.
- IV. Ter na agricultura de plantation tanto a base econômica de geração de divisas quanto de produção de alimento para o mercado interno.

Está(ão) correta(s)

- a) I, III e IV.
- b) I e IV.
- c) apenas IV.
- d) II e III.
- e) II e IV.

15. “... Colômbia, onde (...) o povo já não sabe quem são mocinhos e quem são bandidos”

Terra, maio de 2003.

O fragmento do texto refere-se aos principais grupos envolvidos na guerra civil colombiana que estão descritos no bloco 1. Associe os mesmos às suas respectivas características no bloco 2.

BLOCO 1

- (1) Guerrilheiros das FARC e ELN
- (2) Paramilitares
- (3) Exército colombiano

BLOCO 2

- () Representa o poder paralelo da Colômbia a exemplo dos traficantes cariocas. São financiados por latifundiários e traficantes de coca.
- () Defende os interesses do governo, porém quando de sua atuação apenas leva o pânico e a insegurança às populações camponesas.
- () Grupo de extrema direita criado pelo governo federal no combate à guerrilha. Utiliza táticas de repressão de manuais fornecidos pelo governo americano.
- () Tiveram suas origens em camponeses falidos e perseguidos pelos latifundiários. Financiam suas atividades com seqüestros e extorsões.

A seqüência correta do bloco 2 é:

- a) 2 3 2
- b) 1 2 1 3
- c) 3 3 1 2
- d) 1 2 3 1
- e) 3 1 1 2

16.

ÁGUA DE BEBER.
ÁGUA DE VENDER

“Cinco fóruns simultâneos discutem o futuro dos recursos hídricos do Planeta.

... Em todos, o tema central foi o da privatização da água”.

Terra maio de 2003.

A discussão em torno da privatização da água significa que:

- I. Todas as discussões a respeito da água no planeta visam única e exclusivamente transformar os recursos hídricos em atividade lucrativa para o capital.
- II. O debate sobre os recursos hídricos é polêmico e divide opiniões entre os que propõem seu controle pelo capital privado e os que defendem que a água é um bem que deve ser garantido a todos.
- III. As previsões de crescimento demográfico, aumento do consumo de água e respectiva exclusão de mais 2,4 bilhões de pessoas à água potável passaram a ser temas preocupantes para as mais diversas organizações mundiais, independentes do enfoque ideológico.
- IV. É consenso entre governantes e ONGs que para diminuir os desperdícios de água em todo o mundo, o que representa o real problema, a única alternativa é a privatização desse recurso, que será controlado pela lei do mercado.

Estão corretas as proposições

- a) II e IV.
- b) I e IV.
- c) II e III.
- d) I, II e IV.
- e) II, III e IV.

17.

A TERRA PEDE SOCORRO

“Dez anos depois da Eco 92, há pouco para comemorar”.

Veja, ago./2002.

De acordo com a "chamada" da reportagem é correto afirmar que:

- a) Acordos que previam a preservação do nosso planeta e um crescimento econômico sem degradação ambiental não saíram do papel.
- b) Há muito exagero sobre as questões ambientais cuja finalidade é a apropriação dos recursos naturais por grupos que fazem esse “terrorismo ecológico”.
- c) Desde a Eco 92, apenas os recifes de corais e as florestas tropicais passaram a ser efetivamente preservados.
- d) A redução em 18% da emissão de gás carbônico pelos Estados Unidos, em cumprimento ao Protocolo de Kioto, é uma das poucas comemorações que devem ser feitas.
- e) O subdesenvolvimento é o único e grande responsável pela degradação ambiental, pois apenas os países ricos diminuíram ou mantiveram os níveis de emissão de poluentes nesses dez anos da Eco 92.

18. Assinale com **V** ou com **F** conforme as proposições sejam respectivamente verdadeiras ou falsas.

- () Os desertos por apresentarem mudanças bruscas das temperaturas entre os dias e as noites, apresentam climas muito variáveis.
- () A altitude é um dos elementos do clima que exerce forte influência na temperatura do ar atmosférico, pois quanto maior a altitude maior a temperatura.
- () Os deslocamentos das massas de ar constituem o fator climático mais importante para explicar a ocorrência de chuvas orográficas.
- () O clima é uma espécie de síntese dos tipos de tempos que ocorre num dado local. Apresenta relativa estabilidade e é identificado pelo conjunto dos seus elementos (temperatura, umidade, pressão atmosférica, massas de ar etc.) os quais sofrem as influências dos vários fatores climáticos (linha mestra do relevo, altitude, latitude, continentalidade etc.).


A seqüência correta é:

- a) VVVV
- b) FFFV
- c) VVVV
- d) FFFF
- e) FVVF

19. A Savana africana é formada por uma vegetação sub-lenhosa esparsa e associada a um estrato rasteiro, aspecto típico das paisagens de clima sub-úmido ou semi-desértico, com duas estações bem definidas uma seca e outra chuvosa. A partir dessas características podemos classificar tal vegetação como sendo do tipo:

- a) Herbáceo como os Pampas do Sul do Brasil.
- b) Arbóreo, a exemplo da Mata Atlântica.
- c) Arbustivo, tal como o Cerrado brasileiro.
- d) Desértico, no qual uma vegetação de ciclo vegetativo curto surge com as chuvas escassas.
- e) Xerófilo, semelhante à Caatinga da região Nordeste.

20. A forma de relevo representado pela gravura refere-se:



- a) A uma depressão fechada esculpida em terreno cristalino, encontrada no sertão nordestino.
- b) A uma montanha típica formada por forças tectônicas, a exemplo da Cadeia dos Andes.
- c) A uma falésia, resultado do trabalho do mar na topografia costeira a exemplo do Cabo Branco na Paraíba.
- d) A um planalto típico entalhado em rocha sedimentar e muito comum na região Centro-oeste.
- e) A um fiorde, cavado por erosão glacial, relevo típico do litoral da Noruega.

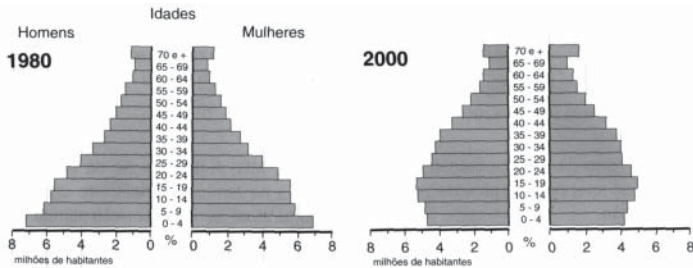
21. As proposições abaixo tratam de aspectos do quadro econômico brasileiro. Analise-as e escreva **V** ou **F**, conforme sejam verdadeiras ou falsas.

- () O Brasil é uma potência de expressiva posição mundial, no entanto é marcada com grandes contrastes e desigualdades sociais.
- () Suas paisagens integram expressivas concentrações industriais, com destaque para o Sudeste e Sul do país.
- () Transferiu sua estrutura predominantemente de agro-exportador para país industrializado periférico sob forte influência transnacional.
- () Sofreu lento processo de industrialização, mas montou um importante e complexo parque industrial no início do século XIX.

Assinale a alternativa correta:

- a) FFFV
- b) VVVV
- c) VFVF
- d) FVVF
- e) VVFF

22. As pirâmides e as proposições a seguir tratam da distribuição etária da população brasileira. A análise das mesmas nos permite concluir que:



- I. A base mais estreita da pirâmide 2000, quando comparada com a de 1980, indica que houve uma redução na taxa de natalidade.
- II. O país ficou mais velho, pois aumentou a faixa de idosos com mais de 70 anos, o que vai acarretar maiores gastos do governo com aposentadorias e pensões previdenciárias.
- III. Nos últimos anos, há evidências de que o país vem passando por um processo de transição demográfica.

Assinale a alternativa correta:

- a) Apenas a proposição I está correta.
- b) Apenas as proposições I e III estão corretas.
- c) Apenas as proposições II e III estão corretas.
- d) Apenas as proposições I e II estão corretas.
- e) Todas as proposições estão corretas.

23.



Com base na charge acima, analise as proposições e escreva V ou F, conforme sejam verdadeiras ou falsas.

- () No Brasil, desde o início do processo de colonização, a terra representou uma mercadoria cara e fundamental para o desenvolvimento do Estado, cuja vocação agrícola era incontestável.
- () A construção do espaço nacional fez-se por base, utilizando a terra como bem social, gerando riquezas para toda sociedade.
- () Um dos aspectos mais perversos do processo de produção do espaço nacional é o de transformação da terra em um bem que pode gerar renda sem ser utilizada, sendo esta uma das bases da concentração fundiária.
- () O descaso com que os latifundiários tratam a questão da terra com aqueles que dela precisam para sobreviver, demonstra a morosidade na implantação por parte do governo de uma reforma agrária eficiente e eficaz.

Assinale a alternativa correta:

- a) VFVV
- b) FFFV
- c) VVVV
- d) FVFV
- e) VFFF

24. O sistema de transportes territorializados reflete o grau de desenvolvimento econômico e social de um país. As proposições a seguir refletem o perfil dos transportes no Brasil. Analise-as e marque a resposta correta.

- I. Até 1930, não existia uma malha de transportes, mas linhas sem conexão lateral que ligavam diretamente o interior aos pontos litorâneos, em virtude da economia exportadora.
- II. Com o advento da industrialização e da urbanização do Sudeste, o território começa a se integrar. A formação do mercado nacional passou a exigir fluidez no espaço. Várias estradas foram construídas e se interconectaram, estruturando-se, dessa forma, o sistema de transporte no país.
- III. A adoção de um modelo industrial com perfil de destaque reservado às empresas automobilísticas influenciou no predomínio do transporte rodoviário. Atualmente esse modelo vem recebendo críticas e modificações. É irracional transportar safras do interior para os portos por caminhões que trafegam ao lado de rios navegáveis.

Assinale a alternativa correta:

- a) Apenas as proposições II e III estão corretas.
- b) Apenas a proposição II está correta.
- c) Apenas a proposição III está correta.
- d) Todas as proposições estão corretas.
- e) Apenas a proposição I está correta.

25.

A todo inimigo da fauna e da flora
 Aquele que provoca poluição
 Aos donos do dinheiro, a quem devora
 Aos ratos e gatunos de toda nação
 Aos sete justiceiros do planeta terra
 Aos mesmos agiotas desse mundo cão
 Aos grandes predadores da natureza
 Vetores da miséria eu lhes digo NÃO

Alceu Valença

A letra da música acima retrata questões expressas nas proposições a seguir. Analise-as e assinale a alternativa **INCORRETA**:

- a) O crescimento econômico fundado na acumulação de capitais, criou padrões tecnológicos e modernos de consumo que têm sustentado uma apropriação desigual e destrutiva da natureza.
- b) Na era da globalização e da revolução técnico-científica, tornou-se evidente que problemas como desertificação, desmatamento, poluição do solo, do ar e da água afetam exclusivamente os países ricos.
- c) O processo contínuo de dilapidação dos recursos naturais tem colocado em risco o equilíbrio do planeta e da vida da humanidade.
- d) O modelo político-econômico imposto pelos países ricos vem provocando uma profunda degradação ambiental e um padrão de consumo desigual entre as nações.
- e) A falta de investimentos públicos, a pobreza e a inexistência de políticas de controle ambiental explicam a situação do meio ambiente nas cidades brasileiras.

26.



No mundo globalizado há uma multiplicidade de redes geográficas que atuam de forma legal e ilegal em escala local, regional, nacional e internacional. À medida que se acentua a exclusão social, proliferam as redes que atuam de forma ilegal. O Brasil não foge dessa realidade. Analisando o teor das manchetes e do texto acima, concluímos que:

- I. O narcotráfico se globaliza estabelecendo vinculação com a rede capitalista “oficial” principalmente nos paraísos fiscais e nos centros bancários of shore internacionais.
- II. Nos países onde a legislação e a fiscalização são insuficientes, o crime organizado lida com vários tipos de tráfico e atos terroristas. O tráfico humano se destaca com a comercialização de crianças para retirada de órgãos e da prostituição infanto-juvenil.
- III. Em países de forte organização financeira, a exemplo da Suíça, torna-se difícil a lavagem de dinheiro sujo, pelos cartéis que controlam o comércio das drogas e o desvio do dinheiro público.

Assinale a alternativa correta:

- a) Apenas as proposições II e III estão corretas.
- b) Apenas as proposições I e II estão corretas.
- c) As proposições I, II e III estão corretas.
- d) Apenas a proposição II está correta.
- e) Apenas a proposição III está correta.

27. As alternativas a seguir tratam de temas da Geografia Brasileira. Analise-as e assinale a resposta **INCORRETA**.

- a) No campo, os padrões de produtividade impostos pelos complexos agro industriais provocam a ruína de pequenos produtores, configurando um quadro de verdadeira tragédia social.
- b) Atualmente, a globalização e a abertura da economia nacional redirecionam fluxos de investimentos e refazem a teia de relações que interliga as regiões e os lugares.
- c) A produção do espaço brasileiro é condicionada apenas pela lógica econômica dos grandes empresários. Os acordos de cooperação internacional negociados pela política externa do governo não repercute sobre a localização das atividades produtivas no interior do país.
- d) A integração nacional e a configuração dos complexos regionais derivaram do processo de industrialização. Esse processo estruturou uma armadura espacial ancorada sobre a concentração da produção e da riqueza do Centro-Sul.
- e) Há algumas décadas a pobreza no Brasil se concentrava no campo e em pequenas e médias cidades desprovidas de iniciativas empresariais. Atualmente, se concentra, também em grande cidades, onde se acentuam os contrastes sociais.

28. Analise a charge e as proposições que seguem:



- I. As novas formas de gerenciamento de produção e as novas tecnologias que são inseridas no processo produtivo, eliminam muitos empregos.
- II. Uma economia desaquecida provoca ondas gigantescas de desemprego, gerando revoltas e crises institucionais. Essa realidade é vivida por grande parte da população em idade de trabalhar no Brasil.
- III. O desemprego também está associado ao enxugamento dos custos das empresas, que contribuem para demissões em larga escala.

Assinale a alternativa correta

- a) Apenas as proposições I e III estão corretas.
- b) Apenas as proposições II e III estão corretas.
- c) As proposições I, II e III estão corretas.
- d) Apenas as proposições I e II estão corretas.
- e) Apenas a proposição I está correta.

29. Esse texto consta na declaração dos Direitos da Criança e do Adolescente.

“A criança deve ser protegida de todas as formas: de abandono, do tráfico, da prostituição e não deve trabalhar, antes da idade adequada.”

Analise as proposições que contradizem essa declaração e que viraram manchetes nos principais jornais que circulam no país.

- I. O Brasil, come, veste e dorme em produtos feitos por mãos de crianças pobres. Elas colhem laranjas nas fazendas de São Paulo, que depois viram suco para crianças ricas e, em forma de concentrado, rendem milhões de dólares em exportação para o país.
- II. Crianças pobres colhem algodão que é usado na fabricação de roupas, enquanto seus corpos estão nus, ajudam a fabricar o carvão para produzir o aço que faz o automóvel, enquanto a maioria vai a pé para trabalhar. É difícil não encontrar na cadeia produtiva produtos que, por trás, não tenham a mão de criança.
- III. Nas principais cidades brasileiras e nas áreas de atração turística é normal a presença de crianças pobres na distribuição de drogas como também na prostituição infantil. Essa realidade ressalta a violência, o desamparo e a desesperança dessa gente.

Assinale a resposta correta

- a) As proposições I, II e III estão corretas
- b) Apenas a proposição I está correta
- c) Apenas a proposição II está correta
- d) Apenas a proposição III está correta
- e) Todas as proposições são falsas

30. Analise as proposições que tratam de indicadores sociais da população brasileira.

- I. A análise econômica limita-se a expor friamente a realidade. O desenvolvimento, de que tanto nos orgulhamos ocorrido nas últimas décadas, em nada modificou as condições de vida da maioria da população do país. Sua característica principal tem sido a concentração de renda nas mãos de uma minoria.
- II. O baixo nível nutricional e sanitário do povo brasileiro constitui um grave problema nacional. Esta situação evidencia o mais cruel estado de miséria e concorre para o principal problema de saúde pública.
- III. A violência urbana exacerbada, fruto da exclusão social, é uma constante na maioria das cidades brasileiras. Com destaque a cidade do Rio de Janeiro, onde a violência por parte do narcotráfico vem abalando a segurança da população e ridicularizando as estratégias de segurança do governo.

Assinale a resposta correta:

- a) As proposições I, II e III estão corretas.
- b) Apenas a proposição I está correta.
- c) Apenas a proposição III está correta.
- d) Apenas as proposições II e III estão corretas.
- e) Todas as proposições são falsas.

31. A charge evidencia que:



- I. As atividades informais ou subterrâneas são típicas das economias subdesenvolvidas, a exemplo do comércio ambulante e da prestação de serviços de baixa capitalização.
- II. O setor informal congrega uma população subempregada, trabalhadores que não têm carteira profissional assinada e nem acesso aos direitos trabalhistas.
- III. O circuito informal teve seu crescimento recente influenciado pela excessiva burocracia legal, a qual vem dificultando o funcionamento das pequenas empresas.

Assinale a alternativa correta:

- a) Apenas as proposições I e III estão corretas.
- b) Apenas a proposição I está correta.
- c) Apenas a proposição II está correta.
- d) Apenas as proposições I e II estão corretas.
- e) Todas as proposições estão corretas.

32. A questão a seguir trata das novas tecnologias utilizadas na agropecuária brasileira. Associe os blocos e identifique a resposta correta:

BLOCO 1

- (1) Biotecnologia
- (2) Engenharia Genética
- (3) Zootecnia
- (4) Transgênicos
- (5) Lei da Biosegurança

BLOCO 2

- () Alimentos produzidos a partir de organismos vegetais e animais geneticamente modificados.
- () Trabalha com organismos modificados geneticamente em laboratórios.
- () Cuida de informar aos consumidores através de rótulos dos seus produtos toda segurança de consumo.
- () Cuida das técnicas de criação e aperfeiçoamento de animais domesticados.
- () Trabalha com o uso integrado da bioquímica, da microbiologia e da engenharia química

Assinale a alternativa correta:

- a) 1 5 4 2 3
- b) 5 4 3 2 1
- c) 3 2 1 5 4
- d) 4 2 5 3 1
- e) 4 5 1 2 3

33. Caro visitante, ao chegar à CIDADE VERDE, lembre-se de que a Paraíba não se resume a sol e mar. Confira os eventos culturais promovidos para RAINHA DA BORBOREMA, veja a belíssima paisagem pediplanada da MORADA DO SOL, conheça as pegadas dos dinossauros próximos à CIDADE SORRISO. Ao retornar, não esqueça de voltar pelo Brejo, para se deslumbrar com as belezas naturais e a arquitetura de suas cidades. Nessa região, a PRINCESA DO BREJO o espera.

Assinale a alternativa que corresponde aos reais nomes das cidades paraibanas que aparecem na ordem relacionadas no texto.

- a) João Pessoa / Campina Grande / Santa Luzia / Pombal / Bananeiras
- b) João Pessoa / Campina Grande / Patos / Sousa / Guarabira
- c) João Pessoa / Esperança / Patos / Cajazeiras / Alagoa Grande
- d) Cabedelo / Campina Grande / Pombal / Sousa / Solânea
- e) João Pessoa / Campina Grande / Pombal / Sousa / Areia

34. Assinale a alternativa que preenche corretamente as lacunas do texto.

A serra de _____ é na verdade uma cobertura sedimentar sobre o planalto da Borborema. Com altitude superior a 600m, apresenta vegetação e solos que se diferenciam do seu entorno. Tal fato a transforma em um verdadeiro "oásis" em meio à caatinga do Curimataú. Durante algum tempo, a base de sua economia foi a produção de _____, hoje, está se tornando importante produtora de _____ cultivado em pequenas propriedades utilizando trabalho _____.

- a) Santa Luzia – algodão – manga – temporário.
- b) Teixeira – sisal – castanha de caju – assalariado.
- c) Cuité – sisal – maracujá – familiar.
- d) Pombal – cereais – frutas – permanente.
- e) Brejo do Cruz – algodão – redes – infantil.

35. A ilustração abaixo representa a paisagem da depressão sertaneja na Paraíba, nela observa-se a presença de morros testemunhos denominados:



- a) Mares de Morro b) Icebergs c) Pães de Açúcar d) Inselbergues e) Escarpas Sedimentares

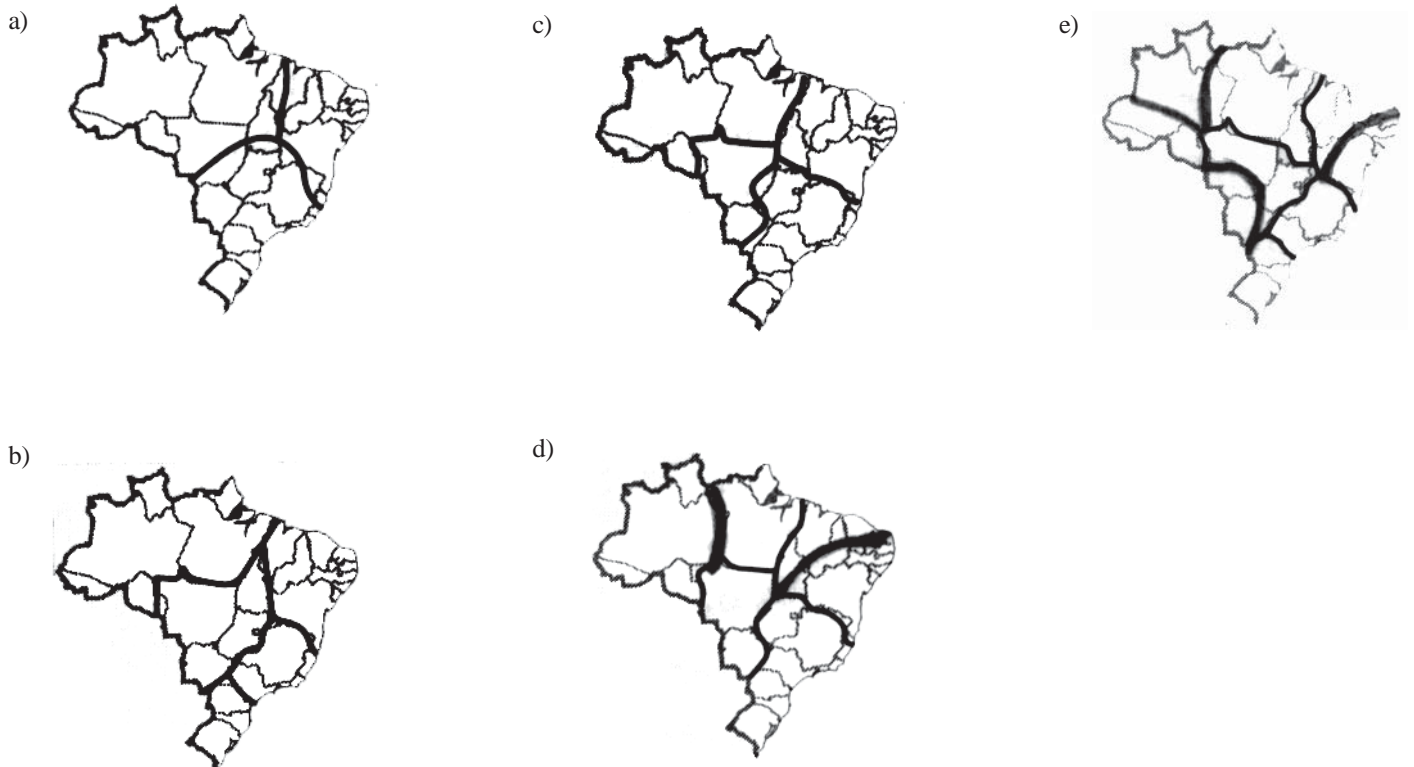
36. Certamente um dos mais autênticos eventos religiosos da Paraíba realiza-se no Sertão, constituindo-se num espetáculo de fé, tradição e resistência cultural negra. O referido evento trata-se

- a) da Festa das Neves em João Pessoa.
 b) da Festa do Rosário em Pombal, que conjuga a manifestação da cultura afro com rituais católicos.
 c) da Festa de Iemanjá, realizada no dia 8 de dezembro que se transforma no mais autêntico sincretismo religioso.
 d) das comemorações a Nossa Senhora da Conceição realizada em várias cidades do interior paraibano em 8 de dezembro.
 e) da Festa de Santo Antônio em Fagundes, com a tradicional romaria a Pedra.

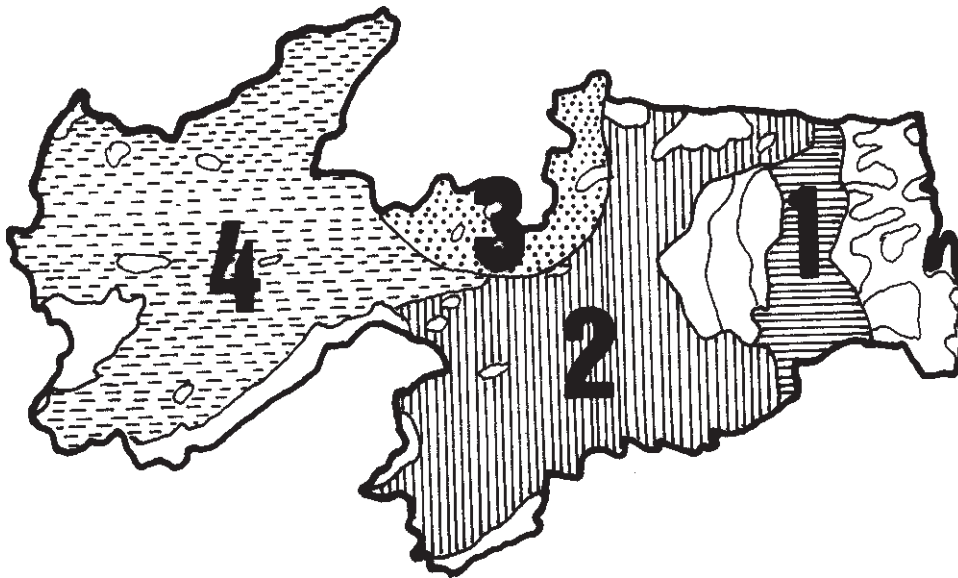
37. As alternativas abaixo explicam o fenômeno que concorre para a terceirização nas cidades no Brasil. Analise-as e assinale a alternativa **INCORRETA**.

- a) A expansão das atividades de comércio ligadas ao estabelecimento do parque industrial.
 b) A modernização e a automatização da indústria de bens, a diminuição da oferta de empregos em seus vários ramos e do aumento da oferta de empregos no setor primário.
 c) A multiplicação das atividades de serviços ligadas à introdução da informática, das telecomunicações e de novas tecnologias.
 d) As indústrias para aumentar a sua rentabilidade, estabelecem uma perfeita integração com o setor terciário: necessitam de tecnologia, transporte rápido, serviços de marketing e de consultorias para vendas.
 e) O processo de globalização da economia acompanhado pela transnacionalização dos mercados.

38. O critério de regionalização é basicamente socioeconômico e não considera os limites estaduais. Cada complexo regional tem características importantes em comum que ultrapassam as divisões político-administrativas. Este texto refere-se ao mapa:



39. De acordo com o cartograma e as características descritas no bloco 1, identifique no bloco 2 as respectivas formações vegetais do Estado da Paraíba.



BLOCO 1

- (1) Formação vegetal acaatingada típica da região sub-úmida, com ocorrência de cactáceas, mas também de espécies da mata úmida. Devido à intensa ação antrópica esta paisagem se apresenta hoje com cobertura de gramíneas pontilhadas por juazeiros.
- (2) Apresenta uma formação arbustiva-arbórea com presença marcante de jurema, catingueira, mandacaru, facheiro, xiquexique e macambira.
- (3) Apresenta um alto grau de empobrecimento, constituindo-se praticamente de estrato herbáceo pontilhado por touceiras de jurema e xiquexique.
- (4) Originalmente do tipo arbóreo, apresenta-se hoje como arbustiva com forte domínio da jurema preta e da favela. Nas margens dos rios, as oiticicas, craibeiras e carnaúbas são testemunhas das antigas matas ciliares.

BLOCO 2

- () Caatinga do Sertão
- () Agreste
- () Caatinga dos Cariris e do Curimataú
- () Caatinga do Seridó

A seqüência correta do bloco 2 é:

- a) 2 4 3 1
- b) 1 3 4 2
- c) 3 1 2 4
- d) 4 1 2 3
- e) 4 3 2 1

40. “Sem-terra invadem fazenda e conflito deixa 12 feridos e um morto”.

Observando a manchete do Jornal da Paraíba de 05/06/2003 sobre conflito no município de Jacaraú-PB, analise as proposições a seguir:

- I. No Estado da Paraíba, a exemplo do restante do país, os conflitos sociais em torno da terra são o resultado de uma estrutura agrária arcaica com alto índice de concentração.
- II. Agindo na clandestinidade o movimento do sem-terra não se dá por satisfeito com as terras recebidas pela ampla reforma agrária, desrespeitando a propriedade privada o que gera os conflitos.
- III. A pressão exercida pelo movimento do sem-terra com a invasão de terra, além de gerar os conflitos tem dificultado a implantação de uma reforma agrária mais efetiva.

Está(ão) correta(s)

- a) todas as proposições.
- b) apenas as proposições II e III.
- c) apenas a proposição II.
- d) apenas a proposição III.
- e) apenas a proposição I.