

01. Com auxílio do cartograma assinale V ou F conforme as proposições sejam, respectivamente, verdadeiras ou falsas em relação aos fusos horários.



- ( ) A diferença de horários na superfície terrestre deve-se ao movimento de translação do planeta.  
 ( ) Considerando que um jogo da copa se realizou às 21 horas na cidade de Seul, no horário de Brasília, assistimos a transmissão simultânea do mesmo jogo às 9 horas da manhã do dia seguinte.  
 ( ) Ao dirigirmo-nos de Leste para Oeste a hora diminui, sendo este o sentido inverso ao seu movimento de rotação da Terra.  
 ( ) Sendo a forma da Terra próxima a uma esfera, podemos dividi-la em 360° graus. Desta forma, para cada 15° temos um fuso horário.

A seqüência correta das assertivas é:

- a) VVVF                      c) FVVF                      e) VVFF  
 b) FVVV                      d) FFVV

02. Associe as categorias geográficas descritas na coluna 1 aos conceitos que melhor as definem, relacionados na coluna 2.

**COLUNA 1**

- (1) Espaço  
 (2) Território  
 (3) Paisagem  
 (4) Lugar

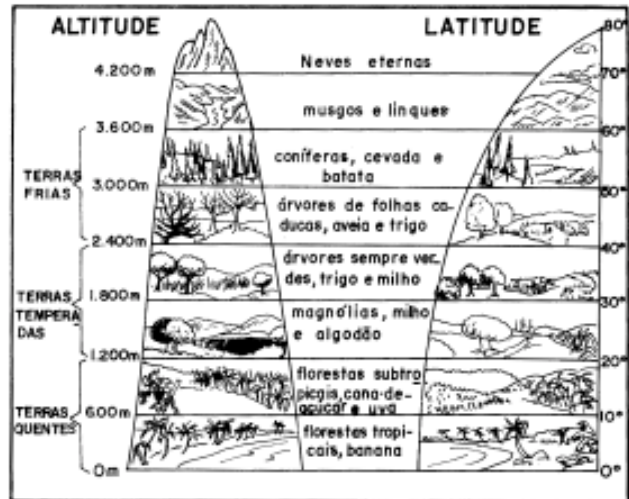
**COLUNA 2**

- ( ) Pedaco da configuração territorial que pode ser delimitada pelo alcance da visão.  
 ( ) Categoria mais geral da geografia, definida pelo meio construído mais as relações sociais que o anima.  
 ( ) Porção do espaço delimitado pelo exercício do poder.  
 ( ) Espaço das práticas cotidianas onde há familiaridade com as linguagens e códigos. Portanto, relacionada à afetividade e ao sentimento de pertencimento.

A seqüência correta é:

- a) 2431                      c) 3124                      e) 4123  
 b) 2314                      d) 3241

03. De acordo com a figura é correto afirmar que:



- I. As paisagens polares são pouco diferenciadas, não havendo grande importância da altitude na formação vegetal.  
 II. Nas regiões tropicais, à medida que a altitude aumenta, as paisagens tendem a reproduzir a sucessão paisagística de ocorrência entre o Equador e os pólos.  
 III. As regiões temperadas e frias (médias e altas latitudes) podem ser utilizadas para o cultivo de plantas tropicais, desde que apresentem baixas altitudes.  
 IV. A altitude é de fundamental importância para a formação vegetal, porém insignificante como fator de alteração climática.

Estão corretas apenas as alternativas

- a) I, II e III                      c) II, III e IV                      e) I e II  
 b) I, III e IV                      d) I e IV

04. "Mesmo em terra ... o soldado americano leva vantagem contra o inimigo do Terceiro Mundo ... porque conta com melhor transporte e inigualável capacidade de comunicação. Pela primeira vez os Estados Unidos pretendem fornecer aos seus soldados no campo de batalha informações instantâneas sobre movimento do inimigo, que será monitorado por satélite ou avião."

Veja, n° 41 – out. de 2001

O fragmento da reportagem evidencia

- I. a consolidação de um meio técnico-científico informacional, cujo elemento de maior importância é o uso e controle da informação.  
 II. a instantaneidade e continuidade de monitoração do ecúmeno através do sistema de satélites.  
 III. os benefícios do processo de modernização, que atinge a todos em todos os lugares, independente das diferenças políticas, econômicas, culturais ou sociais.  
 IV. o descaso às fronteiras territoriais pela tecnologia empregada nos sistemas de informações, que utilizando ondas eletromagnéticas dispensa o uso de linhas no fluxo de comunicação entre os lugares.

Estão corretas apenas as alternativas

- a) I, II e III                      d) II, III e IV  
 b) I, II e IV                      e) II e III  
 c) I e IV

05. Associe os recortes jornalísticos, cujo pano de fundo foi o atentado de 11 de setembro de 2001, apresentados na coluna 1, às respectivas leituras apresentadas na coluna 2.

**COLUNA 1**

- (1) “Mesquitas têm sido apedrejadas e mulçumanos agredidos no mundo todo.”
- (2) “... o Afeganistão, onde há cinco anos a milícia Taleban – que George W Bush achava que era uma banda de rock – impôs a sua interpretação fundamentalista do Corão”
- (3) “... declarou o presidente (americano). ‘Cada nação, em cada religião tem que tomar uma decisão agora. Ou está conosco ou está com os terroristas’.”
- (4) “... o governo americano pediu que redes americanas tenham cautela ao divulgar entrevistas dos terroristas à (emissora de TV) Al Jazira ...”

**COLUNA 2**

- ( ) Comprova a veiculação do discurso único e acríptico que transforma o mundo em “aldeia global” através da indução de opinião pública mundial unificada.
- ( ) Ratifica a volta do discurso maniqueísta entre o bem e o mal que caracterizou todo o período da guerra fria.
- ( ) Confirma o agravamento do racismo contra muçulmanos que passaram também a ser vistos com terroristas.
- ( ) Constata que a perplexidade e a falta de resposta do Ocidente para o atentado de 11 de setembro, deve-se sobretudo ao desconhecimento, à exclusão e à negligência que manteve para com o mundo islâmico.

A ordem correta da enumeração é:

- |            |            |            |
|------------|------------|------------|
| a) 1 2 4 3 | c) 4 1 3 2 | e) 4 3 1 2 |
| b) 3 2 1 4 | d) 4 2 1 3 |            |

06. Assinale a ÚNICA alternativa que NÃO corresponde a uma leitura precisa sobre os acontecimentos que envolvem o atentado de 11 de setembro de 2001, aos Estados Unidos da América.

- a) A escolha dos alvos pelos terroristas foi estratégica, com o objetivo de atingir os Estados Unidos nos seus mais importantes símbolos de poder econômico, militar e político (World Trade Center, Pentágono e provavelmente a Casa Branca).
- b) O surgimento de um novo tipo de conflito, no qual o inimigo deixou de ser apenas os Estados Nacionais e tem como causa o descontentamento com as políticas externas e hegemônicas da globalização, tornou-se mais evidente a partir de então.
- c) O jogo confuso de imagens típico do nosso tempo, faz com que muitas vezes realidade e ficção se misturem, motivo pelo qual, pessoas em todo o mundo ficaram confusas, diante das imagens apocalípticas, já tantas vezes simuladas sobre Nova York.
- d) A guerra limpa, com precisão cirúrgica e a ajuda humanitária, atestam mais uma vez a preocupação americana na luta pela preservação dos valores democráticos e da liberdade, punindo os responsáveis sem no entanto causar danos à população civil.
- e) O Afeganistão, país arrasado pela guerrilha financiada pelos Estados Unidos e pela ex União Soviética, foi escolhido para aplacar o orgulho americano ferido. Para isso os Estados Unidos contaram com o apoio quase irrestrito ou a omissão conveniente de vários países, até mesmo de antigos inimigos, como a Rússia e China (que defendendo interesses escusos, esqueceram o incidente diplomático com o avião espião americano no seu território).

07. A crise que abala a Argentina, já levou o México à falência, afetou países como a Coreia do Sul e mais recentemente o Japão, comprova:

- I. A irrelevância do Estado-Nação, que deixou de garantir os direitos ao capital, tais como proteção dos contratos e direito de propriedade, daí as crises sociais.
- II. A ditadura técnica e financeira a qual os países são submetidos, a nível global, através de políticas econômicas incompatíveis com a estabilidade social, gerando crises de difícil irreversibilidade.
- III. A importância adquirida pelo setor financeiro na esfera econômica global, em detrimento do setor produtivo, o que além de promover sangria nas finanças nacionais, gera desemprego e põe países em situação de risco, fazendo com que tais países não atraiam novos investimentos e afugente os já existentes.
- IV. A necessidade da implantação de políticas econômicas mais liberais, instruídas por instituições financeiras internacionais, que seriam capazes de tornar tais países menos onerosos e aptos à atração de novos investimentos.

Estão corretas apenas as alternativas

- a) I, II e III
- b) II, III e IV
- c) II e III
- d) II e IV
- e) I e IV

08. “Quando juntas, as flores são maravilhosas, mas uma rosa não deixa de ser uma rosa e a tulipa não deixa de ser uma tulipa. E isso precisa ser preservado.”

Esta metáfora do executivo da TV francesa Hans Robert Eisenhauer, que compara a Europa a um buquê de flores, expressa:

- a) O encantamento dos europeus diante dos avanços na unificação europeia com o lançamento do Euro.
- b) A preocupação em preservar a diversidade dos povos, línguas, culturas e culinárias europeias diante dos avanços na unificação.
- c) A facilidade trazida pelo Euro que eliminou barreiras cambiais nos negócios e viagens entre países integrantes da União Europeia.
- d) A façanha econômica europeia com a criação do Euro que poderá abalar o dólar tornando-se moeda mais forte.
- e) O medo das nacionalidades, de que a União Europeia se transforme em um Estado-Nação, a exemplo da Federação dos Estados Americanos, diante a criação de um parlamento, constituição, bandeira, hino, exército e moeda.





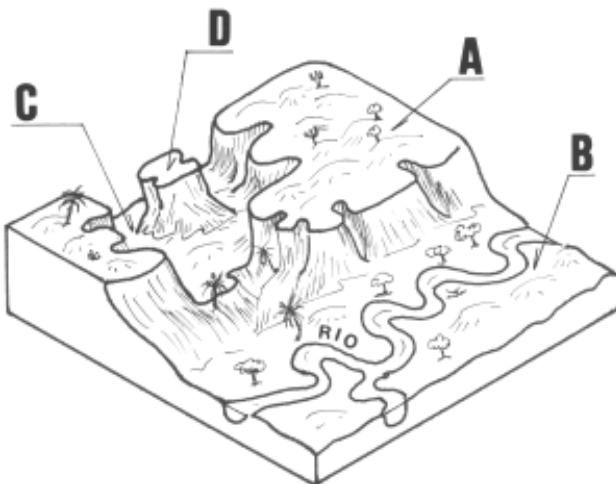
18. Assinale com **V** ou **F** as proposições, conforme sejam respectivamente verdadeiras ou falsas em relação às transformações do atual mundo do trabalho.

- ( ) O avanço da tecnologia conseguiu eliminar os antigos conflitos nas relações capital X trabalho que se fizeram presentes no modelo fordista.
- ( ) Idéias inovadoras como a competitividade e a flexibilidade levaram a todos os lugares e setores o fim da discriminação ao trabalho feminino e a exploração do trabalho infantil, tornando os grupos mais desprivilegiados menos vulneráveis.
- ( ) O capital passou a exercer controle mais forte sobre os trabalhadores, através do desemprego estrutural e do retrocesso do poder sindical.
- ( ) O mundo desenvolvido passou a presenciar (desde os anos 1970) a proliferação de sistemas de trabalho familiar, das economias informais, das subcontratações e do trabalho temporário, que se expande em detrimento do trabalho formal em tempo integral.

A seqüência correta é:

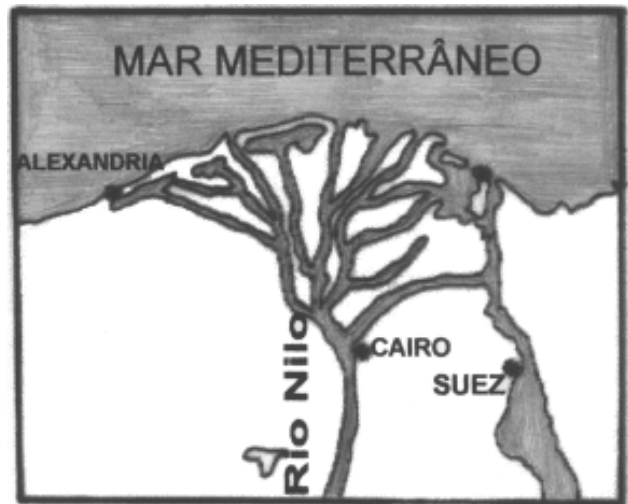
- a) FFVV
- b) VVFF
- c) FVFF
- d) VVVV
- e) FFFF

19. Assinale a alternativa que corresponde às formas de relevo encontradas no bloco-diagrama, obedecendo à seqüência da ordem alfabética.



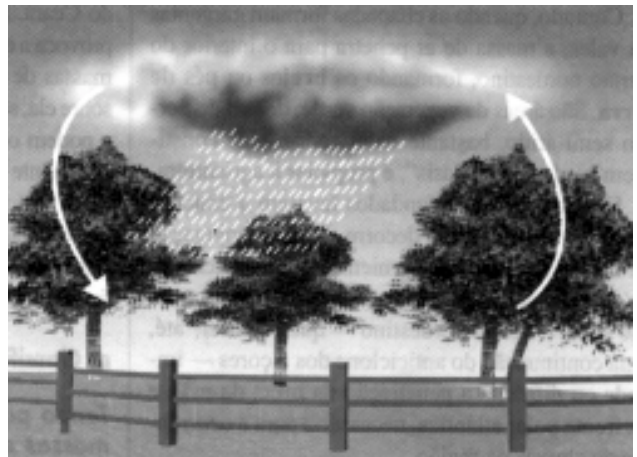
- a) serra – depressão – planície – montanha
- b) planalto – depressão – planície – serra
- c) planalto – planície – depressão – morro testemunho
- d) montanha – planície – planalto – serra
- e) mesa – depressão – vale – planalto

20. Assinale a alternativa que corresponde à descrição correta do cartograma.



- a) Delta do rio Nilo, onde o acúmulo de sedimento possibilitou o aparecimento de ilhas e canais.
- b) Estuário do rio Nilo, com desembocadura profunda e ausência de sedimentos.
- c) Bacia hidrográfica do rio Nilo, com seus afluentes e subafluentes.
- d) Rede de drenagem do rio Nilo, que é do tipo dentrítico.
- e) Nascentes do rio Nilo, que partem de vários pontos de uma vasta região.

21.



A figura acima trata-se

- a) de chuvas orográficas que ocorrem quando as massas de ar quente e úmidas se elevam e se resfriam nas encostas das serras.
- b) de chuvas frontais causadas pelo encontro de uma massa de ar fria com outra quente e úmida.
- c) de chuvas convectivas provocadas pela ocorrência da subida do ar quente e o resfriamento das camadas superiores da atmosfera.
- d) das massas de ar que atuam no Brasil no período do verão.
- e) da massa equatorial continental responsável pelo fenômeno da friagem na Amazônia.

22. O \_\_\_\_\_ é um dos biomas ricos em \_\_\_\_\_ no Brasil. Antes da difusão das \_\_\_\_\_ de correção e de manejo do solo era visto como imprestável para \_\_\_\_\_. Nos últimos anos vem sendo alvo de grande devastação devido à \_\_\_\_\_ e a introdução de tecnologias modernas. As conseqüências dessa modernização vem se manifestando na \_\_\_\_\_ à medida em que o espaço onde está inserido se integra no circuito econômico do país.

Assinale a alternativa que preenche corretamente as lacunas do texto.

- a) cerrado / biodiversidade / tecnologias / agricultura / expansão agrícola / paisagem
- b) caatinga / biodiversidade / agricultura / paisagem / indústria / chuva
- c) agreste / biodiversidade / paisagem / chuva / seca / devastação
- d) litoral / chuva / agricultura / biodiversidade / tecnologia / seca
- e) sertão / seca / gado / agricultura / rebanho / tecnologia

23. Em relação ao processo de regionalização brasileira, a única alternativa que **NÃO** condiz com a realidade é:

- a) O processo de modernização econômica na segunda metade do século XX, ordenado internamente pelo Estado, resultou na unificação econômica do país, integrando o território e formando o mercado em escala nacional.
- b) O comando da modernização brasileira na região sudeste, provocou desestruturação das economias regionais que não estavam preparadas para competir com ramos de produção industrial e agrícola modernos.
- c) O aumento da discrepância regional brasileira pode ser explicado pela recessão econômica, que ocorreu na chamada década perdida ocorrida nos anos de 1940.
- d) A modernização de um território baseia-se na expansão dos sistemas técnicos de comunicação de energia, de transportes e de infra-estruturas produtivas. Quanto maior o conteúdo técnico maior o nível de modernização.
- e) A modernização vem estabelecendo novas relações sócio econômicas que ultrapassam os limites das regiões oficiais, configurando novos recortes espaciais.

24. Escreva **F** ou **V** conforme sejam falsas ou verdadeiras as proposições que tratam de grandes temas da Geografia Brasileira.

- ( ) A competição por mercados tem contribuído para economias contemporâneas se internacionalizarem na formação de blocos econômicos. O Brasil insere-se nesse contexto, através do MERCOSUL, que tem como núcleo geo-econômico o Nordeste brasileiro.
- ( ) O processo de modernização da agricultura brasileira, associado à concentração de terra, possibilitou a formação de arquipélagos produtivos que forma a base da nova divisão territorial do trabalho agrícola.
- ( ) As cidades constituem os principais pólos de poder, de decisões e de desenvolvimento, ao mesmo tempo que concentram a maior gama de problemas sociais como: criminalidade, narcotráfico, poluição e exclusão social.
- ( ) Na estruturação dos espaços mundiais, a internacionalização da economia vem Consolidando as chamadas cidades globais que são vetores importantes da globalização. No Brasil, a cidade de São Paulo se insere nesse contexto.

A alternativa que contém a sequência correta é:

- a) FFVV
- b) FVFV
- c) VFVF
- d) FVVV
- e) VFFF

25. As proposições a seguir retratam a modernização no espaço agrário brasileiro. Analise-as e identifique a alternativa **INCORRETA**.

- a) A desruralização é um processo patente no espaço agrário brasileiro. O campo foi tomado por uma modernização de caráter urbano, a ponto de não podermos identificá-lo inteiramente como rural.
- b) As inovações tecnológicas permitiram: a expansão das áreas cultivadas, a elevação dos índices de produtividade, mas não aumentaram a oferta de empregos agrícolas.
- c) A modernização ampliou os contatos do homem do campo. O telefone, os jornais, a televisão, a circulação de revistas, expandiram o universo dessas relações, inserindo-o num mundo moderno e consumidor.
- d) A expansão das relações capitalistas deu-se com grandes investimentos de capitais, da mecanização agrícola, incorporação de novos solos, da biotecnologia e da abolição total da concentração de terras.
- e) O Centro Sul é o palco principal de todo processo da modernização brasileira.

26. A polêmica em torno do tema Desenvolvimento Sustentável junto às questões do desenvolvimento econômico brasileiro nos confirma os seguintes fatos:

- I. O Desenvolvimento Sustentável é a ponte que se estabelece entre modernização e modernidade. Esse deve atuar sem ameaçar as gerações futuras.
- II. Um dos efeitos da modernização é acumular vantagens para grupos minoritários a exemplo dos grandes projetos mineradores implantados na Amazônia.
- III. A modernidade concilia o crescimento econômico e o interesse social. Essa atualiza o país e reparte entre todos os benefícios desse avanço. No Brasil essa realidade ainda está muito distante.
- IV. A degradação do meio ambiente, a identificação e a utilização da biodiversidade das florestas brasileiras não passam de especulação da mídia e da comunidade científica a nível mundial.

Assinale a alternativa correta:

- a) Apenas as proposições I, II e III estão corretas.
- b) Apenas a proposição I está correta.
- c) Apenas a proposição II está correta.
- d) Apenas a proposição IV está correta.
- e) Apenas as proposições I e III estão corretas.

27. A charge abaixo retrata muito bem a questão do desemprego e da exclusão social no Brasil.



Analise as proposições e escreva **F** ou **V** conforme sejam falsas ou verdadeiras.

- ( ) A partir da década de 1970, o nível elevado de desemprego, tornou-se marca das economias capitalistas globalizadas, em razão dos ganhos da produtividade resultantes da revolução microeletrônica e da telemática.
- ( ) No mercado de trabalho vêm sendo observadas medidas significativas. Observa-se uma substituição das relações formalizadas de emprego por relações informais de compra e venda de serviços que se dão na forma de “terceirização”.
- ( ) A chamada flexibilização dos contratos de trabalho e a requalificação do trabalhador tem sido uma das alternativas oficiais utilizadas para diminuir o desemprego no país. Essa leitura não condiz com a verdade, porque não existe emprego para todos. O Estado só transfere a responsabilidade do problema para o trabalhador.
- ( ) A modernização das inovações tecnológicas na atividade industrial, promovem uma absorção insuficiente de mão-de-obra disponível, agravando o desemprego e o crescimento das atividades informais..

A alternativa que apresenta a seqüência correta é

- a) FFVV b) VVFF c) FVVF d) VFVF e) VVVV

28. O problema da geração de energia elétrica configura-se como um dos mais graves a ser enfrentado pela sociedade brasileira neste início de século. O governo federal vem elaborando estratégias para evitar um colapso no abastecimento de energia o que poderia comprometer o funcionamento do parque industrial.

De acordo com o texto podemos concluir que

- a) a falta de investimentos no setor afetou a geração de energia.
- b) a oferta reduzida de gás natural e carvão mineral comprometeu o sistema energético.
- c) a irregularidade das chuvas não afetou as usinas hidrelétricas.
- d) o alto preço do petróleo prejudicou todo o sistema elétrico do país.
- e) a geração de energia manteve-se proporcional ao crescimento do consumo nos últimos anos.

29. Observe a figura:



Nas últimas décadas do século XX aconteceram mudanças significativas dos fluxos migratórios no Brasil. O país imigrante receptor de grande fluxo de mão-de-obra, passa a condição de emigrante, com grande número de brasileiros vivendo e trabalhando em outros países. Com base na figura e no texto, analise as proposições que explicam a emigração de brasileiros na atualidade e identifique a única alternativa **INCORRETA**.

- a) Atratividade dos países desenvolvidos em decorrência da expansão econômica e a possibilidade de fazer poupança em moedas fortes.
- b) A expansão e a modernidade dos sistemas de comunicações e dos transportes que facilitam a difusão de informações sobre outras regiões do mundo.
- c) A crise econômica prolongada no Brasil nos anos 20 e 30 na chamada “década perdida”.
- d) Dificuldades internas de absorção de mão-de-obra e a perspectiva de futuro para segmentos competitivos.
- e) Facilidade de aquisição de terra em países vizinhos como foi o caso de produtores brasileiros que investiram em Santa Cruz de La Sierra e hoje são responsáveis por 20% da safra de soja na Bolívia.

30. As greves que vêm ocorrendo no setor de transportes nos últimos anos vêm trazendo grandes prejuízos para sociedade. No que se refere ao transporte de cargas, observa-se o papel dos transportes rodoviários nos fluxos territoriais do mercado de bens industriais e agrícola.

De acordo com o texto, a rodovia tornou-se o sistema de transporte predominante no Brasil porque:

- I. O modelo industrial voltou-se para indústria automotriz.
- II. O modelo energético foi centrado no uso de combustível derivado de petróleo.
- III. As ferrovias e as hidrovias não se prestam para esse tipo de serviço, tendo em vistas o alto custo para mantê-las.

Assinale a alternativa correta

- a) Apenas a proposição I está correta.
- b) Apenas a proposição II está correta.
- c) Apenas as proposições I e IV estão corretas.
- d) Apenas a proposição III está correta.
- e) Apenas as proposições I e II estão corretas.

31. Observando a figura podemos concluir que:

- I. A cidade é a paisagem humana ideal para se observar as desigualdades sociais. Há cidadãos que farto de recursos podem utilizar a m e t r ó p o l e toda, enquanto



outros são prisioneiros do lugar. Para esses, o solo e a rede urbana pertence ao domínio do sonho insatisfeito.

- II. Longe dos apartamentos de luxo, das academias de ginástica, do brilho dos shopping centers, das comunicações globalizadas via Internet, está grande parte da população brasileira que ainda não adentrou a vida moderna.
- III. Brasil pentacampeão do mundo continua erguendo a taça das desigualdades sociais, mostrando sua face de país miserável, onde a maioria tem apenas uma meta: matar a fome para preservar a própria vida.

Assinale a alternativa correta:

- a) Apenas a proposição I está correta.
- b) As proposições I, II e III estão corretas.
- c) Apenas a proposição II está correta.
- d) Apenas as proposições I e II estão corretas.
- e) Apenas as proposições I e III estão corretas.

32.



A partir da realidade apresentada pela figura, analise as proposições e escreva **F** ou **V** conforme sejam falsas ou verdadeiras.

- ( ) A fome e a desnutrição não estão relacionadas com a produção e a disponibilidade de alimentos. Os grupos mais sujeitos à fome e à desnutrição são formados por famílias de baixa renda que moram no campo ou migram para as grandes cidades.
- ( ) Somos o país do alimento, mas a maioria da população não tem o que comer. A existência da fome é o fenômeno mais irracional de nossa sociedade.
- ( ) A fome está intimamente ligada ao crescimento populacional e aos problemas ambientais.
- ( ) A vulnerabilidade às doenças, devido ao baixíssimo nível de renda atinge mais gravemente as crianças subnutridas que não resistem às doenças infecciosas como: tuberculose, sarampo, pneumonias, cujo número de óbitos é elevado.

A alternativa que contém a seqüência correta é:

- a) VVFF b) VVFV c) FFVV d) FVVF e) FVVF

33. O Brasil tem passado por um processo de desconcentração industrial que tem refletido no crescimento de investimentos em áreas fora do tradicional eixo RJ e SP. As proposições a seguir tratam desse processo. Analise-as.

- I. A migração de investimentos em outras áreas ocorre em função das condições que os lugares oferecem para reprodução do capital.
- II. Em função dos novos investimentos é observado um crescimento em cidades de porte médio que se localizam próximas de regiões metropolitanas que são importantes centros industriais e de serviços.
- III. Entre os casos de desconcentração, merece destaque o pólo automotivo na região metropolitana de Curitiba.

Assinale a alternativa correta:

- a) Apenas a proposição I está correta.
- b) Apenas a proposição II está correta.
- c) Apenas a proposição III está correta.
- d) As proposições I, II e III estão corretas.
- e) Apenas as proposições II e III estão corretas.

34. Observe a tabela e com base nos indicadores apresentados, escolha a única alternativa correta.

Segmentos populacionais	Proporção (em %)		Taxas de crescimento (em %)	
	1980	2000	1980/85	1995/2000
infantil (0 – 4 anos)	14,4	10,0	-0,5	0,2
escolar (5 – 14 anos)	24,4	19,2	1,7	-0,1
em idade ativa (15 – 64 anos)	57,2	65,4	2,8	2,0
idosos (65 anos ou mais)	4,0	5,4	3,0	3,3

Fonte: Censo demográfico de 1980 e dados projetados.

- A diminuição da população infantil no percentual populacional total está relacionada com a redução das taxas de fecundidade.
- A evolução populacional está caracterizada pela redução das taxas de crescimento em todos os grupos etários.
- As mudanças no padrão demográfico vêm ocorrendo com a mesma intensidade em todo espaço brasileiro.
- Observa-se uma redução da população idosa.
- A modernização não alterou, em nada a dinâmica populacional brasileira.

35. Os mapas a seguir, dispostos em ordem cronológica, representam a ocorrência das florestas tropicais úmidas nas encostas do território brasileiro. Analise as proposições a seguir.



- O desflorestamento da Mata Atlântica não tem relação com os sucessivos ciclos da economia brasileira.
- A destruição quase que total da Mata Atlântica teve seu início no período da colonização e prosseguiu ao longo dos diferentes processos históricos, resultando no atual processo de degradação ambiental.
- A partir do século XIX dá-se uma aceleração na ocupação humana na região sudeste. Novos espaços foram exigidos, o que acarretou num desmatamento mais eficaz.

Assinale a alternativa correta

- As proposições I, II e III estão corretas.
- Apenas a proposição I está correta.
- Apenas a proposição III está correta.
- Apenas as proposições II e III estão corretas.
- Apenas a proposição II está correta.

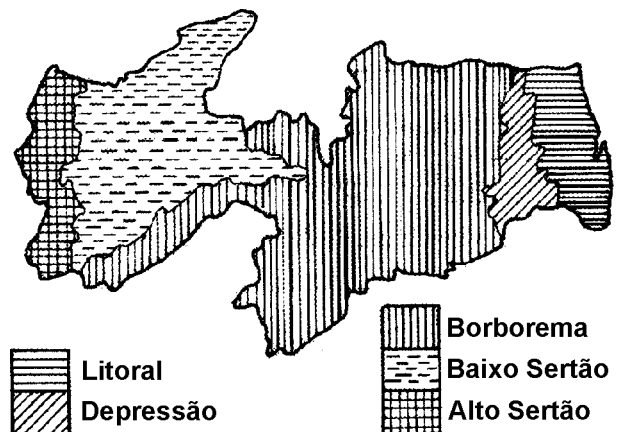
36. As proposições a seguir tratam do setor industrial paraibano. Analise-as e escreva F ou V conforme sejam falsas ou verdadeiras.

- O perfil industrial da Paraíba ainda pode ser considerado tradicional, com a concentração de indústrias no ramo têxtil, alimentício e de transformação de minerais não-metálicos.
- O perfil industrial paraibano sofreu grande transformação nos anos 60 quando a SUDENE incentivou a implantação de indústrias voltadas para a realidade do Estado.
- A função comercial e o beneficiamento do algodão foram responsáveis pela diversificação do setor industrial surgido em Campina Grande.
- A industrialização de municípios como João Pessoa, Campina Grande, Patos e Sousa contribuiu para que a economia paraibana tivesse na indústria seu mais importante setor.

A alternativa que contém a seqüência correta é:

- VVFF
- FFVV
- VVVF
- FFFV
- VFVF

37. O cartograma da regionalização paraibana sintetiza



- a diversidade paisagista da Paraíba.
- a importância de centros com o João Pessoa, Guarabira, Campina Grande, Sousa e Patos na regionalização do Estado.
- a importância da semi-aridez na inclusão do Estado no Polígono das Secas.
- a atual divisão regional do Estado em meso e micro-regiões pelo IBGE.
- o processo de ocupação humana como principal agente diferenciador do espaço paraibano.

38. Assinale a alternativa que preenche corretamente as lacunas do texto.

Localizado numa das áreas mais secas do Nordeste brasileiro, o município de \_\_\_\_\_, busca alternativas econômicas através da pecuária \_\_\_\_\_ e do turismo \_\_\_\_\_ e cultural, beneficiando-se do sítio arqueológico \_\_\_\_\_ e da montagem de infra-estrutura turística. É hoje um dos municípios paraibanos que mais atrai o turismo \_\_\_\_\_, ratificando que a visão empreendedora pode ser capaz de tirar proveitos das potencialidades locais.

- a) Cabaceiras / caprina / ecológico / do Pai Mateus / estrangeiro
- b) Ingá / bovina / rural / da Itacoatiara / regional
- c) João Pessoa / avícola / de sol e mar / e do patrimônio histórico / interior do estado
- d) Sousa / bovina / ecológico / do Vale dos Dinossauros / nacional
- e) Araruna / bovina / ecológico / da Pedra da Boca / estrangeiro

39. As áreas 1 e 2 em destaque no cartograma, sobressaem-se pela produção e o beneficiamento de dois dos mais importantes minerais, não-metálicos, de exportação paraibana. São respectivamente,



- a) calcário e bentonita.
- b) bentonita e calcário.
- c) bentonita e granito.
- d) granito e calcário.
- e) argila e areia.

40. Em relação a Campina Grande, é correto afirmar que a cidade:

- I. Representa hoje um importante centro regional na prestação de serviços, principalmente médico-hospitalar e educacional.
- II. Destaca-se pela produção de ciência e tecnologia, através de seus centros de ensino e de pesquisas e das empresas de informática, as quais exportam softwares.
- III. Tem função estritamente comercial, graças ao algodão, produto de maior importância na economia local.
- IV. Beneficiou-se da posição geográfica, tornando-se passagem obrigatória entre o litoral e o sertão, daí a importância de suas feiras de cereais e de gado, sua primeira atividade econômica importante.

Estão corretas apenas as alternativas

- a) I, II e III.
- b) I, III e IV.
- c) I, II e IV.
- d) II e IV.
- e) III e IV.