

1ª QUESTÃO

“Toda paisagem que reflete uma porção do espaço ostenta marcas de um passado mais ou menos remoto, apagado ou modificado de maneira desigual, mas sempre presente”.

(Olivier Dolfus, 1991)

De acordo com o texto, podemos afirmar:

- A paisagem é um conjunto de formas heterogêneas de idades diferentes.
- A paisagem é estática, ao passo que o espaço é dinâmico.
- As formas antigas da paisagem são sempre suprimidas, devido a seu envelhecimento técnico e social.
- As paisagens refletem, sempre, as marcas das desigualdades sociais, por serem produzidas sob o modo de produção capitalista.
- A paisagem é uma representação do espaço, mas não é espaço, portanto, exhibe as formas, mas esconde a essência de sua produção.

2ª QUESTÃO

Em relação à Guerra Fria, que teve como marco inicial o fim da II Guerra Mundial e o seu término simbolizado pela queda do Muro de Berlim, pode-se afirmar:

- A Guerra Fria foi um confronto nuclear direto entre os Estados Unidos e a União Soviética.
- Os países latino-americanos foram diretamente afetados por esse confronto ideológico, com a implantação de ditaduras militares, cuja finalidade era evitar a expansão do comunismo nesses países.
- Países como a Coreia e o Vietnã tiveram seus territórios divididos por sangrentas guerras que separaram capitalistas e comunistas, alinhados respectivamente aos Estados Unidos ou à ex-União Soviética.
- Em países do Terceiro Mundo, guerras, violações dos direitos humanos através de torturas e mortes, além do cerceamento de liberdades, foram justificadas em nome da democracia e do combate ao comunismo.

Estão corretas APENAS as proposições:

- II e IV
- I, III e IV
- II, III e IV
- I e III
- I, II e IV

3ª QUESTÃO

Para alguns autores, a gênese da globalização está no século XV, com as grandes navegações, porém é na década de 1990 que o processo atinge um estágio jamais imaginado, com a crescente interdependência dos mercados. Este processo que relativiza o tempo e as distâncias só foi possível

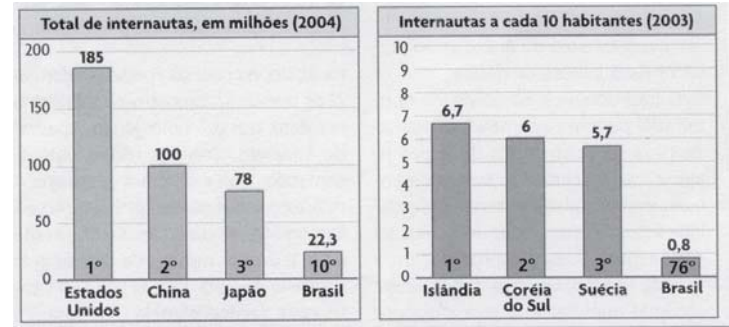
- com a revolução das telecomunicações, em especial com a expansão da internet, que viabiliza a fluidez monetária em escala mundial.
- com a difusão da política neoliberal, que restringe o papel do Estado, desregulamenta e privatiza setores da economia.
- com a adoção do Keynesianismo por países que optaram por uma política de bem-estar social para garantir o pleno emprego.
- com a expansão da organização fordista, que viabilizou a produção de massa voltada para um consumo também de massa e a grande especialização da mão-de-obra.

Estão corretas APENAS as proposições:

- I e II
- II e III
- I e IV
- II e IV
- I, II e III

4ª QUESTÃO

ACESSO À INTERNET



Assinale com **V** as proposições Verdadeiras e com **F** as proposições Falsas em relação à leitura dos gráficos acima.

- O país que se apresenta como líder na inclusão digital são os Estados Unidos, pois tem o maior número de usuários.
- O Brasil, apesar de ser um país subdesenvolvido, apresenta posição de destaque tanto em número absoluto quanto em número relativo de usuários da internet, o que mostra nosso avanço na inclusão digital.
- Ao compararmos a população chinesa com o percentual de usuários da internet, constatamos que a China, apesar de ocupar o 2º lugar no número absoluto de *internautas*, ainda apresenta um grande déficit na inclusão digital.
- A internet trouxe uma nova realidade para o espaço mundial, eliminando o grande abismo entre ricos e pobres através do acesso rápido à informação e da viabilização de maior aproximação entre as pessoas, via *e-mails* e *chats*.

A seqüência correta das assertivas é:

- VVVV
- FFVF
- VVFF
- FVVF
- VFFF

5ª QUESTÃO

Sobre a nova ordem internacional “*embora discutível [...] o que se vê na prática é uma única potência com propensão a se tornar (guardiã da ordem) planetária. Isso é demonstrado pelos constantes esforços para fazer guerra ao mundo, inclusive com poder de utilizar a força segundo seus próprios interesses, desprezando organizações internacionais como a ONU*”.

(Nota de Fernando Magalhães. In: Tempos pós-modernos, 2004.)

Diante das transformações mundiais, da forma como se dão as relações internacionais e segundo o ponto de vista do autor, podemos afirmar que o texto se refere

- a Cuba, país que insiste em se manter isolado, recusando-se a ceder à lógica do mercado globalizado e ao triunfo do liberalismo capitalista.
- à China, superpotência emergente do século XXI, porém campeã na violação dos direitos humanos.
- aos Estados Unidos, superpotência hegemônica que sobrepõe seus interesses aos dos organismos internacionais.
- ao Irã, país que desafia os Estados Unidos e o Ocidente e persiste no desenvolvimento do seu projeto nuclear, desaprovado pelas Nações Unidas.
- ao fim da ordem bipolar e à emergência de uma nova ordem multipolar, sem a presença de uma potência hegemônica, porém comandada pelos Estados Unidos, União Européia e Japão.

6ª QUESTÃO

Assinale com **V** as proposições Verdadeiras e com **F** as Falsas, em relação à União Européia.

- () Este bloco econômico que passou a existir em 1992, e hoje conta com 25 países, teve sua origem com a criação da Comunidade Européia do Carvão e do Aço, da qual faziam parte, inicialmente, 6 países.
- () Após a ratificação de uma constituição para a União Européia, o Euro se tornou a moeda oficial de todo o bloco econômico.
- () A recusa da Turquia em ingressar na União Européia frustra a pretensão deste bloco em se aproximar do Oriente Médio e ter uma maior representação de muçulmanos em sua população.
- () O veto do ingresso dos países do Leste Europeu à União Européia deve-se ao fato de tais nações terem sido repúblicas socialistas.

A seqüência correta das assertivas é:

- a) FVVV
- b) VVVV
- c) FFFF
- d) VFFF
- e) FFVV

7ª QUESTÃO

A política neoliberal, imposta aos países para que possam negociar suas dívidas externas e que serve de modelo ao FMI (Fundo Monetário Internacional) e ao Banco Mundial, propõe

- I.** a eliminação das barreiras comerciais.
- II.** a privatização de empresas estatais.
- III.** a ampliação dos subsídios à agricultura.
- IV.** a intensificação dos gastos sociais pelos governos.

Estão corretas APENAS as proposições:

- a) II e IV
- b) I e III
- c) I e II
- d) II, III e IV
- e) I, II e III

8ª QUESTÃO

O argumento utilizado pelo governo Bush para justificar sua política intervencionista e belicosa no Oriente Médio é o de que os Estados Unidos

- a) têm o dever de combater o terrorismo e a tirania e levar a liberdade e a democracia ao mundo árabe.
- b) precisam assegurar o abastecimento de petróleo em seu território.
- c) têm o dever de proteger os sauditas, seus aliados, da ira dos talibãs comandados por Bin Laden.
- d) têm o dever moral de reestruturar a economia de países como o Afeganistão e o Iraque, que foram destruídos por ditaduras insanas.
- e) precisam combater a insanidade do fundamentalismo religioso dos aiatolás.

9ª QUESTÃO

A posição do governo venezuelano em relação à política de Bush, sua aproximação com Cuba e a vitória de Evo Morales na Bolívia apontam

- a) uma nova geopolítica para os hidrocarbonetos no mercado sul-americano, liderada pela Venezuela e pela Bolívia, maiores produtores desses recursos.
- b) uma tendência latino-americana de retorno a políticas mais nacionalistas e críticas ao modelo neoliberal.
- c) o avanço dos regimes socialistas na América Latina devido à aproximação de tais governos com o presidente cubano.
- d) uma rápida consolidação da ALCA, como forma de deter a “onda esquerdista” que toma conta da América do Sul.
- e) um retrocesso político e social na América Latina, com a ascensão de governos antiquados e reacionários, contrários aos avanços da globalização.

10ª QUESTÃO

INDIA

Avanço mas não de tigre,

De elefante.

“O gigante asiático está crescendo em ritmo acelerado, mas precisa arrastar o peso da pobreza e da complexidade social”.

(Veja, junho de 2006.)

Apesar de todo o crescimento econômico, o país enfrenta sérios problemas a serem superados, tais como:

- I.** O atraso em tecnologia farmacêutica e da informação.
- II.** O sistema de castas que, embora abolido por lei desde 1950, ainda está presente na cultura indiana.
- III.** O enorme número de analfabetos que corresponde a quase metade da imensa população indiana.
- IV.** A ausência de uma classe média indiana, com poder de consumo, e de um empresariado de origem nacional, disposto a investir no país.

Estão corretas APENAS as proposições:

- a) I e II
- b) II e III
- c) II e IV
- d) II, III e IV
- e) I, II e III

11ª QUESTÃO

A intensificação do fluxo migratório em direção aos países ricos é provocada diretamente pela globalização econômica e pelo aprofundamento das desigualdades entre pobres e ricos. Tal processo resulta


- I.** na “fuga de cérebros”, altamente prejudicial ao desenvolvimento dos países pobres.
- II.** em vultosa remessa de dólares para os países de origem dos imigrantes, que, em alguns casos, é a mais importante fonte de sobrevivência dessas nações.
- III.** no acirramento da xenofobia, discriminação, exploração e violência contra o imigrante.
- IV.** na busca de soluções, por parte dos países ricos, para legalizar a massa de imigrantes que vive na clandestinidade.

Estão corretas APENAS as proposições:

- a) I, II e III
- b) II, III e IV
- c) I e IV
- d) II e III
- e) I, II e IV

12ª QUESTÃO

Assinale com **V** ou com **F** as proposições conforme sejam respectivamente Verdadeiras ou Falsas em relação à leitura da paisagem agrária mostrada na foto.



- () A modernização do campo provoca a subordinação crescente do campo à cidade e à indústria, destino da produção agrícola e de onde recebe insumos e equipamentos.
- () A modernização da agricultura torna as paisagens agrícolas homogêneas, através da especialização produtiva, para atender ao mercado urbano/industrial cada vez mais exigente.
- () O campo torna-se cada vez mais auto-suficiente em função de ser o espaço que mais rapidamente absorve as modernizações do meio técnico-científico-informacional.
- () A modernização do campo reduz a população rural, mas contribui para a formação de uma população agrária, que, além dos bóias-frias, inclui agrônomos, tratoristas, mecânicos e outros profissionais qualificados, que, mesmo morando nas cidades, dedicam-se às atividades agrárias.

A seqüência correta das assertivas é:

- a) FVVV d) VVFF
- b) FVVV e) VFFF
- c) VFFF

13ª QUESTÃO

“A bem da verdade, a raça humana vem se multiplicando explosivamente desde que existem as vacinas. Orgulham-se pelo fato de conseguir controlar epidemias e as doenças infantis, mas agora enfrenta a superpopulação. O homem não se deu conta que todas essas doenças eram a seleção natural dos mais fortes e mais aptos [...] Não foi exatamente Deus que controlava a superpopulação pelas epidemias que matavam os mais fracos e menos aptos?”.

(Ana Primavesi - Agroecologia: ecoesfera, tecnologia e agricultura, 1977.)

Com base no texto podemos afirmar que a teoria populacional desenvolvida pela autora baseia-se em princípios tipicamente

- a) reformistas, ao ver na miséria a causa do crescimento demográfico.
- b) marxistas, ao entender que só existem superpopulações relativas, vinculadas à forma como se desenvolve e se reproduz o capitalismo.
- c) malthusianos, ao defender as calamidades como um obstáculo positivo ao crescimento populacional.
- d) neomalthusianos, ao defender que o crescimento populacional provoca o subdesenvolvimento, se não for compatível com os recursos do território.
- e) natalistas, ao observar que há um “ótimo populacional” para a qualidade do padrão de vida de uma nação.

14ª QUESTÃO

Associe as epidemias que afligem nosso século, descritas na coluna 1, às suas respectivas características apresentadas na coluna 2.

COLUNA 1

- (1) AIDS
- (2) Malária
- (3) Tuberculose
- (4) Gripe Avícola

COLUNA 2

- () Doença que no passado aterrorizou a humanidade, hoje, apesar de já ter cura, continua se propagando e fazendo milhares de vítimas, especialmente na África, onde aparece associada aos infectados pelo HIV.
- () Doença surgida no sudeste asiático, cujo vírus, altamente letal, não é transmitido diretamente entre seres humanos, porém apresenta grande capacidade de mutação, a exemplo do H5N1, de descoberta recente.
- () Apesar do aumento do número de infectados, em várias partes do mundo, a doença tem maior crescimento no Leste Europeu, na Ásia Central, mas é na África Subsaariana que apresenta o mais alarmante número de infectados.
- () Doença transmitida por mosquitos, que faz o maior número de vítima em países tropicais ou subtropicais, a exemplo do Brasil, Índia e países da Oceania e da África.

A seqüência correta é:

- a) 2 3 4 1
- b) 1 4 3 2
- c) 3 4 1 2
- d) 4 2 1 3
- e) 3 1 2 4

15ª QUESTÃO

Espécie de caramujo africano foi introduzida no Estado de Pernambuco com o intuito de ser utilizado como *escargot*, em restaurantes sofisticados do Recife. Não servindo como alimento e sem valor comercial, os caramujos foram abandonados na natureza. Na Zona da Mata, encontraram as condições propícias para sua multiplicação. Sem predadores, os caramujos se tornaram um problema e já são encontrados em outros Estados, causando danos em jardins e lavouras, além de já haver casos de contaminações em criança pobres dos mangues do Recife.

O texto ilustra:

- a) Os riscos que espécies exógenas podem causar ao meio ambiente quando introduzidas sem o devido conhecimento e a preocupação sobre os impactos que podem provocar.
- b) As potencialidades dos ambientes quentes e úmidos das áreas tropicais, que poderiam ser mais bem aproveitadas para o rápido desenvolvimento de espécies animais e vegetais.
- c) A falta de políticas de saneamento básico, que atinge as populações dos países pobres, sobretudo as que moram em grandes cidades.
- d) A falta de infra-estrutura do IBAMA para combater o contrabando de animais selvagens.
- e) A utilização da biopirataria como estratégia de desestruturação da produção dos países concorrentes.

16ª QUESTÃO

Para reduzir pela metade a população sem acesso à água de qualidade até 2015 e atingir a meta proposta pela ONU, bem como evitar um futuro colapso no abastecimento deste precioso líquido, é necessário:

- I. Aderir à proposta do Banco Mundial de privatizar a água, colocando-a no mercado a preços bem mais altos.
- II. Usar medidas como as já implantadas no Japão de duplo sistema hidráulico com a reutilização da água para atividades que não precisam de água potável.
- III. Utilizar maciçamente a água do subsolo e das geleiras e investir na dessalinização das águas dos oceanos, por serem fontes inesgotáveis desse líquido.
- IV. Investir na despoluição de rios e lagos e tomar medidas preventivas para evitar a poluição de mananciais ainda puros.

Estão corretas APENAS as proposições:

- a) II, III e IV
- b) III e IV
- c) I, II e III
- d) II e IV
- e) I, III e IV

17ª QUESTÃO

Associe as faixas climáticas do globo, apresentadas na coluna 1 às suas respectivas características, descritas na coluna 2.

COLUNA 1

- (1) Altas Latitudes
- (2) Baixas Latitudes, na altura do equador
- (3) Latitudes Médias
- (4) Baixas Latitudes, próximas aos trópicos

COLUNA 2

- () Latitudes sujeitas aos avanços e recuos das frentes durante todo o ano, devido à influência do ar polar e do ar tropical. É a zona na qual as 4 estações do ano são bem caracterizadas. É a zona mais industrializada do globo, no hemisfério Norte, onde as florestas caducifólias praticamente desapareceram. No hemisfério Sul apresenta-se pouco povoada, em parte, por apresentar poucas áreas emersas.
- () Zona de condições naturais hostis, com ventos que sopram a mais de 100 Km/h e frio rigoroso. Apresenta invernos severos e verões curtos, que, nas áreas que atingem os 10 °C, permitem a formação da taiga, e nas áreas que não atingem esta temperatura, apenas é possível o aparecimento da tundra.
- () Latitudes em torno das quais se situam os desertos quentes, por serem áreas de alta pressão, mas são, também, as latitudes nas quais ocorrem as chuvas de monções, em especial nas proximidades do oceano Índico onde ocorre uma estação seca e outra chuvosa bem definidas, com a ocorrência de intensa pluviosidade, que se precipita sobre área bastante povoada do sul e sudeste asiáticos.
- () Zona de Convergência Intertropical, portanto, de domínio dos os ventos alísios. Apresenta temperaturas elevadas com baixa amplitude térmica anual e predomínio de elevadas precipitações, geralmente superiores a 2000 mm.

A seqüência correta das assertivas é:

- a) 4 2 3 1
- b) 3 1 4 2
- c) 2 1 4 3
- d) 3 4 2 1
- e) 1 3 2 4

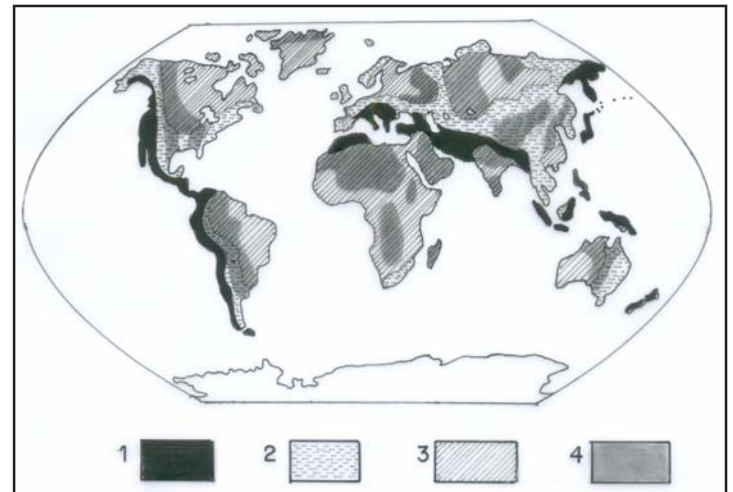
18ª QUESTÃO

Com o intuito de amenizar os impactos da intervenção humana sobre o planeta, a ONU tem promovido conferências globais, que resultam em documentos assinados por vários países, os quais se comprometem em adotar medidas ambientalistas. Dentre estes importantes documentos, está o “Protocolo de Kyoto”, criado em 1997, cujo aspecto de maior polêmica é

- a) o entrave ao desenvolvimento econômico e tecnológico que o acordo representa para os países pobres, que deixarão de crescer e se modernizar.
- b) o pequeno número de países que ratificaram o acordo para reduzir a emissão de gases.
- c) a proposta de desindustrialização para os países ricos, que teriam de apresentar crescimentos econômicos negativos.
- d) o abandono do acordo pela Rússia, em fevereiro de 2005, fazendo com que o protocolo não entrasse em vigor.
- e) a recusa dos Estados Unidos, maior emissor de gases do planeta, em assinar o acordo para reduzir gradativamente seus níveis de poluição atmosférica.

19ª QUESTÃO

Identifique as formas de relevo, associando-as as suas respectivas numerações do cartograma abaixo.



- () Dobramentos antigos, são escudos de consolidação mais recente que os primeiros núcleos de formação da crosta terrestre, às vezes, ainda afetados por forças tectônicas rápidas. Os melhores exemplos são os Montes Apalaches (EUA), Urais (Rússia) e as montanhas da Alemanha Central.
- () Escudos cristalinos de origem muito antiga, apresentam-se como baixos planaltos ou depressões. São os terrenos mais trabalhados pelo processo erosivo e os mais estáveis do ponto de vista tectônico. Como exemplos aparecem os escudos Brasileiro, Canadense e Australiano.
- () Bacias sedimentares que recobrem parcialmente as plataformas, formam espessos pacotes de rochas sedimentares depositadas ao longo das eras posteriores ao pré-cambriano. São exemplos as bacias dos rios Amazonas, Mississipi/Missouri e Colorado.
- () Dobramentos Modernos, são os terrenos mais recentes, elevados e instáveis. Localizam-se geralmente nas bordas dos continentes e sua gênese está relacionada à tectônica de placas, com destaque para as cordilheiras dos Andes, do Himalaia e Montanhas Rochosas.

A seqüência correta das assertivas é:

- a) 4 3 2 1
- b) 2 3 4 1
- c) 3 1 2 4
- d) 1 4 3 2
- e) 2 3 1 4

20ª QUESTÃO

Os desertos são ecossistemas cujo aspecto comum são a aridez e a alta amplitude térmica diária, condições que definem as características da flora, da fauna, mas, também, da cultura dos povos que neles vivem. Enumere a coluna 2 associando-a à coluna 1.

COLUNA 1

- (1) Deserto de Atacama.
- (2) Deserto do Saara
- (3) Deserto de Gobi
- (4) Deserto do Colorado

COLUNA 2

- () Localizado no oeste dos Estados Unidos, apresenta cenários cinematográficos esculpidos pela natureza, tais como o Grand Canyon e Monument Valley, hoje, muito explorados pelas atividades turísticas. Os vários povos nativos, tais como os navajos e hopis, que habitam a região, tentam preservar suas tradições, mesmo com todos os apelos capitalistas voltados para o turismo.
- () É a região mais seca do mundo, porém rica em recursos minerais, com destaque para o cobre e o sal. Situa-se entre o oceano Pacífico e a cordilheira dos Andes, formando um estreito corredor de altitude média em torno dos 2000 m. A água que sustenta a vida aí existente é proveniente do derretimento da neve. Entre as espécies animais adaptadas a estas condições extremas estão o guanaco e os flamingos. Há também grupos humanos que habitam a região há milhares de anos e ainda preservam muitas de suas tradições.
- () Maior deserto do mundo, apresenta temperaturas que atingem os 55 °C diurno e uma amplitude térmica diária que varia entre 15 e 30 °C. É habitado por povos nômades, dos quais os tuaregues, que percorrem o deserto com suas caravanas de camelos, são os mais conhecidos. É rico em recursos minerais, dentre os quais, o petróleo, em torno do qual começa a haver mudanças dos costumes milenares, tal como a redução do nomadismo.
- () Deserto frio e seco da Ásia Central, com altitude superior a 1000 m sobre o planalto da Mongólia, é habitado por reduzida população de nômades que sobrevivem do pastoreio.

A seqüência correta das assertivas é:

- a) 2 4 1 3 c) 4 2 3 1 e) 4 1 2 3
b) 3 1 4 2 d) 1 4 3 2

21ª QUESTÃO

Analise o quadro a seguir

ECOSSISTEMAS	Fatores de Degradação	Impactos Ambientais
A	Garimpo, mineração industrial, projetos agropecuários, hidrelétricas, caça e pesca predatória.	Assoreamento, erosão e poluição dos rios, desmatamento, perda da biodiversidade, perda da fertilidade do solo.
B	Pecuária extensiva, plantio de soja e trigo, queimadas.	Erosão, desertificação, desmatamento, perda da fertilidade do solo.

No quadro de informações, as letras **A** e **B** são corretamente substituídas por:

- a) Campos do Sul e Cerrado
- b) Caatinga e Cerrado
- c) Amazônia e Caatinga
- d) Amazônia e Campanha Gaúcha
- e) Agreste e Amazônia

22ª QUESTÃO

“A Idade da Pedra chegou ao fim, não porque faltassem pedras, a era do Petróleo chegará igualmente ao fim, mas não por falta de petróleo”.

(O Estado de São Paulo, 2002.)

Com base em seus conhecimentos sobre o assunto, o fragmento do texto nos mostra que o fim da era do petróleo estaria relacionado

- I à redução e esgotamento das reservas de petróleo e à diminuição das ações humanas sobre o meio ambiente.
- II ao desenvolvimento tecnológico e à utilização de novas fontes de energia.
- III ao desenvolvimento dos transportes e ao conseqüente aumento do consumo de energia.

Está(ão) correta(s) APENAS a(s) proposição(ões)

- a) I c) III e) II e III
b) II d) I e II

23ª QUESTÃO

“Na busca por combustíveis alternativos, o Brasil pode encontrar, no BIODIESEL, um caminho para o Desenvolvimento Sustentável”.

(Discutindo a Geografia, 2006.)

O fragmento do texto leva a uma reflexão de que o Programa do Biodiesel pode

- I estimular a desconcentração fundiária e incentiva o desenvolvimento da pequena propriedade familiar, em áreas mais pobres do Brasil.
- II estimular o cultivo de produtos da agricultura familiar como a mamona e o dendê, nas regiões mais pobres, principalmente na região Nordeste.
- III contribuir para maior inserção social, relações contratuais justas, preços compatíveis e assistência técnica aos produtores.

Está(ão) correta(s)

- a) todas as proposições. d) apenas a proposição III.
b) apenas a proposição I. e) apenas as proposições I e II.
c) apenas a proposição II.

24ª QUESTÃO

“Luciano Araújo de 20 anos teve mais sorte que seu tio. Na década de 1980, Paulo Araújo se cansou da vida dura de pequeno agricultor no Crato-CE e migrou para São Paulo. Analfabeto, Paulo não prosperou e teve que voltar para o Ceará. Seu sobrinho não vai precisar se esforçar tanto para conseguir emprego numa fábrica. A indústria está chegando no Sertão”.

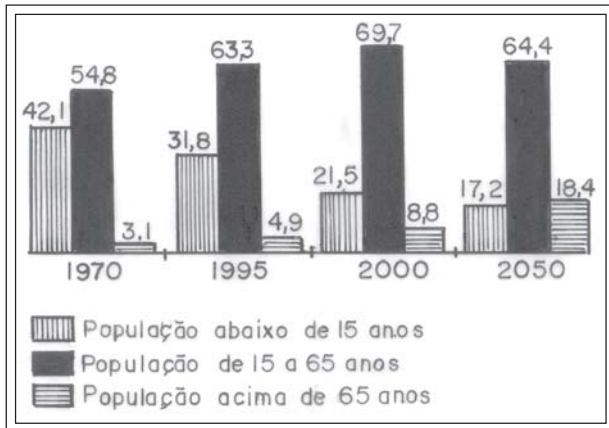
(Folha de São Paulo, 2005.)

A história de Luciano e Paulo mostra duas fases da organização industrial no território brasileiro. São elas, respectivamente:

- a) Dispersão da atividade industrial, durante o milagre econômico, e centralização de unidades produtoras no período Collor.
- b) Descentralização do parque industrial sulista e aumento da industrialização Amazônica.
- c) Centralização industrial no Centro-Oeste e transferência da indústria de ponta para o Nordeste.
- d) Concentração da indústria de base no Sudeste e total dispersão da indústria da construção civil.
- e) Centralização industrial na região Sudeste e dispersão da atividade industrial para regiões de custos mais baixos.

25ª QUESTÃO

Em reportagem sobre o crescimento da população brasileira, uma revista de divulgação científica publicou tabela com a participação relativa de grupos etários na população brasileira, no período de 1970 a 2050 (projeção), em três faixas de idades: abaixo de 15 anos, entre 15 e 65 e acima de 65 anos.



Analisando o gráfico e admitindo-se que o título da reportagem se refira ao grupo etário cuja população cresceu sempre ao longo do período registrado, o título adequado à reportagem poderia ser:

- a) Brasil troca a escola por fábrica.
- b) Brasil de fraldas.
- c) Brasil chega à idade adulta.
- d) Brasil de cabelos brancos.
- e) Brasil ainda um país de adolescentes.

26ª QUESTÃO

As proposições abaixo retratam um dos problemas vivenciados em muitas cidades brasileiras, conforme ilustração da charge. Analise-as:

- I. O aumento da violência e da criminalidade vem gerando insegurança nas cidades. Essa realidade foi vivenciada no mês de maio em São Paulo, quando o narcotráfico instalou a barbárie na maior cidade da América do Sul, demonstrando a força de um poder paralelo.
- II. O setor imobiliário se beneficia do medo, investindo em condomínios fechados, fazendo marketing dos equipamentos de segurança.
- III. O empobrecimento dos espaços públicos representa uma perda na qualidade da vida urbana no que se refere à sociabilidade. Esses espaços são vistos como perigosos e ameaçadores. Já os espaços privados ganham importância crescente na socialização de parcelas da população.



Está(ão) correta(s)

- a) apenas as proposições I e II.
- b) apenas a proposição I.
- c) apenas a proposição II.
- d) apenas a proposição III.
- e) todas as proposições.

27ª QUESTÃO

Escreva V (VERDADEIRA) ou F (FALSA) para as proposições que tratam do processo da urbanização brasileira.

- () A partir da década de 1940, deu-se a aceleração do processo de industrialização. Em 1970, a maior parte da população brasileira já vivia na zona urbana, o que refletiu a modernização econômica e o grande desenvolvimento industrial.
- () O novo modelo de desenvolvimento econômico industrial não necessitava de um mercado consumidor unificado para se expandir.
- () As transnacionais preferiram se instalar nas cidades, onde a concentração populacional era maior, a infra-estrutura urbana mais equipada e a mão-de-obra mais qualificada para o trabalho urbano.
- () Atraída pela miragem de um padrão de vida elevado e pelo modelo urbano de consumo, a população afluía aos principais núcleos industriais do país.

A alternativa que apresenta a seqüência correta é:

- a) FVVF
- b) FFFV
- c) VFVV
- d) VVFF
- e) FFVF

28ª QUESTÃO

Associe os conceitos descritos na coluna 1 aos conceitos que melhor os definem, relacionados na coluna 2.

COLUNA 1

- (1) Biodiversidade
- (2) Biopirataria
- (3) Aquífero Guarani
- (4) Agenda 21

COLUNA 2

- () É a maior reserva subterrânea de água doce do mundo. Sua maior parte fica em subsolo brasileiro. Atualmente a pureza de suas águas vem sendo ameaçada pelo uso de adubos e defensivos agrícolas que se infiltram no solo nas áreas de agricultura mecanizada do Centro-Oeste e Oeste paulista.
- () Corresponde a toda variedade de seres vivos do planeta que interagem entre si e com o meio ambiente. Sua preservação depende de uma ação global, daí a importância dos tratados internacionais. Atualmente as propostas de META DO MILÊNIO visam garantir essa sustentabilidade ambiental.
- () É um programa de ações que estabelece metas e diretrizes de construção do desenvolvimento sustentável com o objetivo de conter a degradação ambiental, conciliando a proteção ambiental com justiça social e crescimento econômico.
- () É praticada por grandes conglomerados transnacionais que se aproveitam de forma indevida dos recursos naturais que só existem em determinado país, passando a usá-los para fins industriais. Posteriormente esse conhecimento é patenteado em âmbito internacional, sem que as comunidades locais tenham direito à participação financeira com essa exploração. A Amazônia brasileira é vítima dessas gangues internacionais.

A alternativa que apresenta a seqüência correta é

- a) 4 3 2 1
- b) 4 2 3 1
- c) 3 1 4 2
- d) 2 3 4 1
- e) 1 4 3 2

29ª QUESTÃO



(Fonte: Atualidades Vestibular, 2006.)

A leitura da figura confirma que:

- I. No Brasil, onde a concentração fundiária é um processo histórico secular, a luta pela posse da terra transformou-se em alvo de disputa social, gerando confrontos e mortes num país de dimensões continentais.
- II. A questão da democratização agrária tem estimulado o comércio rentável das desapropriações, levando o INCRA a pagar aos latifundiários indenizações superiores ao valor da terra, o que não deixa de ser um “acordão” para fazer reforma agrária sem abalar a estrutura fundiária.
- III. As grandes corporações da mídia materializam que o MST “invade, depreda, causa terror, incendeia, corrompe etc.” Essa retórica fundada para efeito de objetividade apaga o verdadeiro sinal de luta e de conquistas e desloca o tema reforma agrária da esfera social para a esfera criminal.
- IV. A ciranda dessa luta que move a utopia por um país menos desigual, deve contribuir para acalentar novos horizontes de justiça social.

Está(ão) correta(s)

- a) apenas a proposição IV.
- b) apenas a proposição I.
- c) apenas a proposição II.
- d) apenas a proposição III.
- e) todas as proposições.

30ª QUESTÃO

Nos países subdesenvolvidos, a ocupação do _____ ocorreu de maneira irracional e sem _____. De um lado tem-se a _____, composta de bairros ricos, bem equipados de serviços urbanos, e do outro lado tem-se a _____ composta pela periferia, pelas favelas, sem nenhum planejamento, ocasionando uma _____. As pessoas que não podem morar nas áreas nobres são empurradas para áreas menos valorizadas, caracterizando _____.

Assinale a alternativa que preenche corretamente as lacunas do texto.

- a) espaço segregado – planejamento – segregação social – cidade formal – cidade informal – solo urbano.
- b) solo interurbano – segregação espacial – cidade informal – cidade formal – parafernália – solo urbano.
- c) planejamento – solo urbano – informalidade – cidade formal – segregação social – segregação espacial.
- d) solo urbano – planejamento – cidade formal – cidade informal – segregação espacial – segregação social.
- e) solo urbano – racionalidade – cidade informal – cidade não planejada – segregação social – segregação espacial.

31ª QUESTÃO

Em outubro de 2005, os grandes jornais brasileiros circularam com a seguinte manchete:

A febre aftosa atinge uma das vedetes do agronegócio brasileiro

Refleta sobre a manchete e as proposições que seguem:

- I. A pecuária é a segunda maior receita do agronegócio nacional. As carnes bovina, suína e de frango representam 7 bilhões de dólares das vendas do Brasil e um terço do Produto Interno Bruto, colocando o país na liderança mundial na venda desses produtos.
- II. A principal causa do sucesso do setor agropecuário é o aumento da produtividade decorrente do melhoramento genético e das condições sanitárias com os altos investimentos em tecnologia.
- III. A doença não prejudicou as exportações, já que a carne contaminada não é prejudicial à saúde humana.
- IV. O surgimento da aftosa demonstrou o despreparo brasileiro para tratar de um aspecto importante de sua economia. Para contornar os problemas o Congresso Nacional liberou 33 milhões de reais para o combate da doença, que se resolve com uma simples vacina.

Estão corretas APENAS as proposições

- a) I, II e IV.
- b) II, III e IV.
- c) I e II.
- d) II e III.
- e) I e IV.

32ª QUESTÃO

A circulação de pessoas e riquezas imprime mudanças profundas no espaço geográfico à medida que se transformam os sistemas de produção e consumo. Escreva com **V (VERDADEIRA)** ou **F (FALSA)** para as proposições que tratam do perfil do sistema de transportes no Brasil.

- () O Brasil construiu a terceira maior malha rodoviária do mundo, inferior apenas aos Estados Unidos e à Índia. A expansão das rodovias ocorreu simultaneamente à industrialização e à urbanização, o que explica sua concentração junto aos centros urbanos.
- () O transporte ferroviário teve seu apogeu até a década de 1920 junto à cafeicultura; hoje se encontra em processo de desestabilização. As ferrovias não integram as regiões e não foram estruturadas para atender com rapidez e eficiência à nova realidade industrial do país.
- () Os sistemas de transportes desempenharam papel fundamental no processo de crescimento econômico e na integração do território brasileiro.
- () Os corredores de exportação, dotados de toda infra-estrutura, envolvem o transporte, o armazenamento e a comercialização dos produtos, integrando as áreas de origem aos portos de exportação.

A alternativa que apresenta a seqüência correta é:

- a) VVVV
- b) VVFF
- c) FFVV
- d) FFFV
- e) VFVF

33ª QUESTÃO

As proposições abaixo tratam das políticas territoriais no espaço brasileiro.

- I. A produção do espaço brasileiro não é condicionada apenas pela economia dos grupos empresariais, mas também por decisões de ordem política, protagonizadas pelo Estado.
- II. As políticas territoriais valorizam e dinamizam determinadas porções do território, criando e recriando desigualdades entre regiões e entre lugares.
- III. Os acordos de cooperação internacional negociados pela política externa não repercutem sobre as localizações das atividades produtivas no interior do país.

Está(ão) correta(s) APENAS a(s) proposição(ões)

- a) I
- b) I e II
- c) II
- d) III
- e) I e III

34ª QUESTÃO

Nos anúncios de emprego, a famosa ironia do poeta Vinícius de Moraes torna-se ainda mais cruel.

“As feias que me perdoem, mas beleza é fundamental.”

O fragmento do texto mostra que:

- I. No Brasil a desigualdade tem cor e sexo. Negros e mulheres são discriminados pelo mercado de trabalho. Quando empregados, recebem menores salários e são submetidos a longas jornadas de trabalho.
- II. No Brasil também são discriminados os desengonçados, os “sem salão de beleza”, os deficientes, os “mal vestidos”, os velhos, os gordos e todos que não se encaixam em certo modelo tradicional de beleza.
- III. Desde 1995, o Ministério Público do Trabalho Federal vem tentando abolir esse preconceito “estético”, fazendo acordos com empresas em todo o país para que não publiquem anúncios que tratem da aparência do candidato. Proibir uma frase é muito simples, apagar o preconceito na hora da seleção é muito difícil.

Está(ão) correta(s)

- a) apenas a proposição II.
- b) apenas a proposição I.
- c) todas as proposições.
- d) apenas a proposição III.
- e) apenas as proposições I e II.

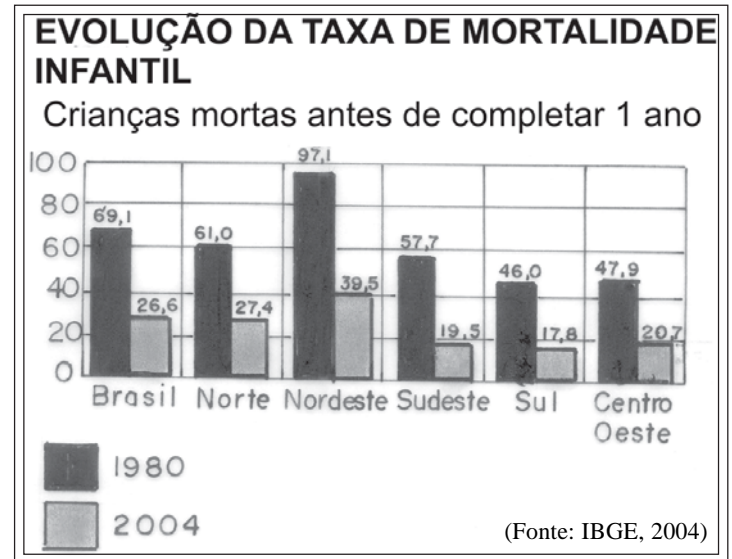
35ª QUESTÃO

Com a Constituição de 1988, a incumbência de criar áreas metropolitanas passou da União para os Estados. Sendo assim, em 2003, foi criada a área metropolitana de João Pessoa, composta por 9 municípios, incluindo a capital. Hoje encontram-se conurbadas a João Pessoa as cidades de:

- a) Cruz do Espírito Santo, Bayeux, e Conde.
- b) Cabedelo, Bayeux e Santa Rita.
- c) Santa Rita, Lucena e Bayeux.
- d) Bayeux, Cabedelo e Rio Tinto.
- e) Lucena, Mamanguape e Cruz do Espírito Santo.

36ª QUESTÃO

Analise o gráfico abaixo e identifique a resposta correta.



- a) A taxa de mortalidade infantil em 2004 na região Nordeste ainda é a maior entre as regiões do país. É mais que o dobro da região Sudeste.
- b) Não há relação entre a redução da mortalidade infantil e o aumento de longevidade.
- c) A organização Mundial da Saúde estabelece como padrão normal a morte de mais de 20 crianças, a cada mil nascidas vivas.
- d) Pesquisas do IBGE informam que o acesso ao saneamento básico se distribuiu de maneira igualitária em todo o país.
- e) A região Nordeste não lidera o ranking de mortes por diarreia no país. Daí, apresentar um forte indicador de desenvolvimento humano.

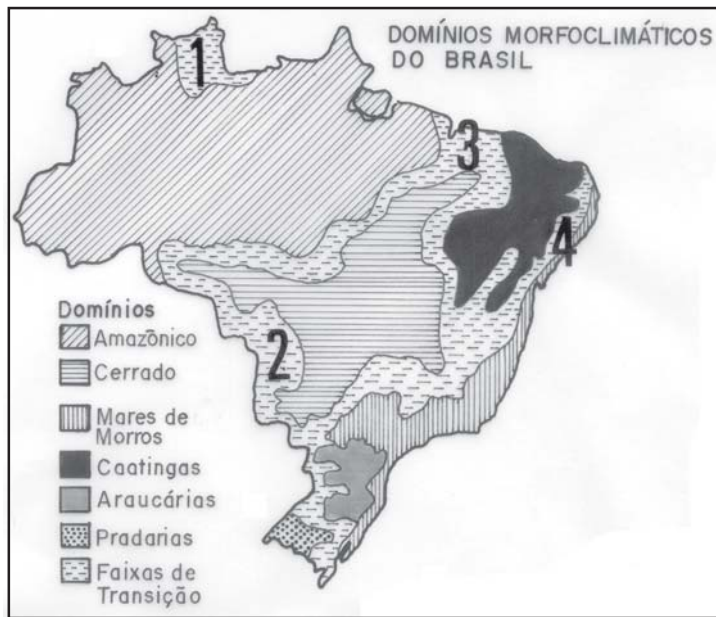
37ª QUESTÃO

Em seu estudo sobre as áreas de exceção do Agreste paraibano, o geógrafo Mário Lacerda de Andrade destacou espaços que se diferenciam do seu entorno pela organização agrária, com o predomínio de lavouras, ao invés do tradicional binômio gado-policultura, que caracteriza os agrestes. Com base no seu conhecimento sobre o Estado da Paraíba, é possível identificar que tais áreas são

- a) as regiões de plantio do algodão colorido (microrregiões do Seridó, Curimataú e Patos)
- b) os rios perenizados pelos açudes de São Gonçalo, Engenheiro Ávidos e Coremas/Mãe d'Água, que propiciam uma agricultura diversificada na Depressão do Alto Piranhas.
- c) as localidades banhadas pelos açudes de Sumé e o Epitácio Pessoa (Boqueirão), que possibilitam a agricultura irrigada em suas margens e a prática de vazantes em trechos dos rios Sucuru e Paraíba.
- d) o Brejo de Natuba, a Área de Policultura do Agreste da Borborema (Microrregião de Esperança) e a área de Lavoura Diversificada do Brejo Paraibano.
- e) a comunidade de Ribeira, no município de Cabaceiras (produção de alho, utilizando o lençol freático do rio Taperoá), e os municípios de Cuité e Nova Floresta (fruticultura, devido às características do clima serrano).

38ª QUESTÃO

Com auxílio do cartograma, assinale com **V** ou com **F** as proposições, conforme sejam respectivamente Verdadeiras ou Falsas.



- () As áreas de transição identificadas pelos numerais 1, 2, 3 e 4 correspondem, respectivamente, ao Cerrado, ao Complexo do Pantanal, a Mata dos Cocais e aos Agrestes.
- () Os domínios das Araucárias e das Pradarias correspondem às áreas subtropicais, cuja vegetação original tem sido largamente explorada com o corte de madeira e a utilização como pasto natural, respectivamente.
- () A Caatinga é o domínio brasileiro que corresponde às Savanas africanas. Constitui uma área de transição entre o domínio morfoclimático equatorial e o tropical úmido com formação de florestas.
- () Os Mares de Morros têm no relevo seu aspecto paisagístico mais característico, visto que a cobertura vegetal original, constituída pela Floresta Latifoliada Tropical, vem sendo extinta desde o período colonial, para dar lugar a plantações e à mais densa rede urbana do país.

A seqüência correta das assertivas é:

- a) VVFV
b) VVVF
c) FVVV
d) FFVF
e) FVVF

39ª QUESTÃO

*São tropas de burros
Que vêm do Sertão
Trazendo seus fardos
De pele e algodão [...]
Assim caminhavam
As tropas cansadas
E os bravos tropeiros
Buscando pousada
Nos ranchos e aguadas
Dos tempos de outrora [...]
Riqueza da terra
Que tanto se expande
E se hoje se chama de Campina Grande
Foi grande por eles [...]*

Tropeiros da Borborema (Rosil Cavalcante e Raimundo Asfora)

No fragmento desse clássico da música nordestina, podemos identificar aspectos da formação territorial do espaço paraibano que são:

- I** O importante papel dos tropeiros para a circulação de mercadorias no nosso território, bem como a contribuição que deram para a formação de algumas cidades, que foram surgindo com os ranchos ao longo dos caminhos.
- II** A base econômica de algumas localidades através do surgimento de feiras, sobretudo no agreste, cuja função era abastecer os tropeiros nas suas longas caminhadas pelo interior paraibano.
- III** A desestruturação da atividade dos tropeiros, no início do século XX, com o advento dos tempos modernos, simbolizado na chegada do trem em Campina Grande e que passou a ser o único transporte para a produção algodoeira e de peles do semi-árido paraibano.
- IV** A produção pecuarista/cotonicultora que foi a base econômica do Sertão, e que teve em Campina Grande seu principal centro exportador, fundamental para o crescimento da cidade e para sua consolidação como centro regional.

Estão corretas:

- a) Apenas as proposições I e II.
b) Todas as proposições.
c) Apenas as proposições III e IV.
d) Apenas as proposições II e III.
e) Apenas as proposições I, II e IV.

40ª QUESTÃO

Ao destacar a importância do turismo para o Nordeste, o geógrafo Manuel Correia de Andrade destaca algumas áreas da Paraíba que apresentam potencialidades que vão além “*das praias arenosas de águas quentes*”. Os exemplos incluem _____ localizado no Planalto da Borborema, cuja altitude e exposição aos ventos úmidos contribuem para a formação de belas e agradáveis paisagens. Cidades históricas que guardam “*certo nível de preservação*” como João Pessoa e _____, mas também _____, que têm na tradição regional a realização de destacado evento turístico. Ressalta também, o referido autor, o impacto do turismo nas atividades agrárias do Nordeste, com a construção de hotéis fazendas, bem como a criação de animais que servem como atrativos aos hóspedes, que, no nosso caso específico, merece destaque por esta modalidade de turismo _____, que tem na aridez do Cariri paraibano, não um problema, mas sim um atrativo capaz de gerar rendas.

- a) Mamanguape – o Brejo Paraibano – Campina Grande – Cabaceiras
b) o Brejo Paraibano – Mamanguape – Campina Grande – Cabaceiras
c) Campina Grande – o Brejo Paraibano – Mamanguape – Cabaceiras
d) Cabaceiras – Campina Grande – Mamanguape – o Brejo Paraibano
e) o Brejo Paraibano – Cabaceiras – Mamanguape – Campina Grande